



Comune di Vallo della Lucania

Provincia di Salerno

Originale

N. 148 del 07 / 04 / 2021 Registro Generale

Determinazione del Responsabile del Settore Affari Generali n. 088 del 06/04/2021

OGGETTO: Concorso pubblico per soli esami per la copertura a tempo pieno ed indeterminato di n. 7 (sette) posti per profili professionali vari di Istruttore, di categoria C e posizione economica iniziale C1. Presa d'atto ed Esito Generale Nominativo della prova preselettiva unica per tutti i profili svolta in data 02/04/2021 in due sessioni, antimeridiana e pomeridiana.

IL RESPONSABILE DEL SETTORE AFFARI GENERALI

Premesso che

- con Determinazione n. 183/UAGE/PERS del 27/12/2019, così come modificata, rettificata ed integrata con successiva Determinazione n. 001/UAGE/PERS del 10/01/2020, è stata indetta selezione pubblica per la copertura a tempo pieno ed indeterminato di n. 7 (sette) posti di categoria C, posizione economica iniziale C1, ai sensi dell'art. 35 del D. Lgs. n. 165/2001 e ss.mm.ii. e integrazioni in attuazione del piano triennale del fabbisogno di personale per il triennio 2019/2021;
- il Bando n. 446 del 14/01/2020 è stato pubblicato all'Albo pretorio e, per estratto, sulla Gazzetta 4ª Serie Speciale Concorsi ed Esami n. 9 del 31/01/2020;
- entro il termine di scadenza per la presentazione delle domande (2 marzo 2020), sono pervenute n. 478 istanze di partecipazione da parte di n. 300 concorrenti;
- in data 4 settembre 2020 è stato pubblicato sul sito istituzionale l'elenco generale dei candidati;
- l'articolo 3 "Prova preselettiva e prove d'esame" del Bando di concorso prevede l'espletamento di procedura di preselezione, in caso di partecipazione di un numero di candidati superiore alle 100 unità, ed una prova scritta per ciascun profilo, riservata ai candidati che hanno superato la fase di preselezione;
- per entrambe le prove, è espressamente prevista da Bando la possibilità di avvalersi del supporto tecnico di agenzie specializzate e di ricorrere all'uso di sistemi informatizzati per la costruzione, il sorteggio e la correzione dei test;
- si è accertato di dover procedere all'espletamento della prova preselettiva, in ragione dell'elevato numero di candidature pervenute;
- con Determinazione n. 067/UAGE/PERS del 08/03/2021 (R.G. n. 106 del 09/03/2021) si è provveduto ad affidare, per le ragioni ed alle condizioni ivi espresse, ai sensi dell'art. 36, comma 2, lett. a), del D. Lgs. n. 50/2016, così come modificato dall'art. 1 della Legge 11 settembre 2020, n. 120, alla ditta "TM Consulting S.R.L." con sede in Pozzuoli (Na) alla Via Antiniana n. 2G, C.F./P.Iva 07052751216, il servizio di supporto nella gestione della prova preselettiva e delle prove scritte del concorso pubblico;
- con avviso pubblicato in data 05/03/2021 sulla prima pagina e nella sezione "Amministrazione Trasparente" > partizione "Bandi di concorso" del sito internet del Comune di Vallo della Lucania è stato comunicato ai candidati che la prova preselettiva si svolgerà in data 02/04/2021, rinviando a successivo avviso il dettaglio del calendario con gli orari delle sessioni, la ripartizione dei candidati tra le sedi e le sessioni previste nella stessa giornata, le sedi di convocazione per lo svolgimento della prova e tutte le ulteriori informazioni utili ai candidati;
- con successivo avviso prot. n. 3227 del 18/03/2021, pubblicato all'Albo Pretorio On Line, sulla prima pagina e nella sezione Amministrazione Trasparente > partizione Bandi di Concorso sono state date tutte le informazioni di dettaglio sulle modalità, le sedi e gli orari di svolgimento della prova preselettiva fissata per il giorno del 02/04/2021, in due sessioni, antimeridiana e pomeridiana, con allegato il Piano operativo di sicurezza contenente le regole da osservare per la prevenzione del contagio da Covid-19 durante le fasi di svolgimento della prova nel rispetto del Protocollo della Funzione Pubblica prot. n. DFP-0007293-P-03/02/2021 di svolgimento dei concorsi pubblici di cui all'articolo 1, comma 10, lettera z), del Decreto del Presidente del Consiglio dei ministri 14 gennaio 2021 e dell'art. 24 del d.P.C.M. 2 marzo 2021 pubblicato sulla G.U.R.I. n. 52 del 2 marzo 2021;

Rilevato che l'ultimo comma dell'art. 6 "Prova preselettiva" del sopra citato Bando di Concorso prevede che per lo svolgimento della fase preselettiva sia nominato, per le attività di vigilanza e controllo sul regolare svolgimento della prova, un apposito "Comitato di Vigilanza";

Richiamata la propria precedente determinazione n. 084/UAGE/138/RG del 26-27/03/2021, rettificata e precisata con successiva determinazione n. 087/UAGE/143/RG del 31/03/2021, con cui fu costituito il suddetto Comitato di Vigilanza nelle persone di n. 10 dipendenti ivi indicati;

Considerato che in data 2 aprile 2021 si è regolarmente svolta, con l'ausilio della agenzia specializzata TM Consulting S.r.l. e sotto la vigilanza del Comitato di cui sopra, la prevista prova preselettiva, come da avviso pubblico pubblicato in data 5 marzo 2021 nella prima pagina e nella sezione Amministrazione Trasparente del sito internet www.comune.vallodellalucania.sa.it e come da successivo avviso-calendario-piano operativo prot. n. 3227 del 18/03/2021 pubblicato con le medesime modalità innanzi descritte ed all'Albo Pretorio on line del Comune di Vallo della Lucania;

Visto che, alla prova preselettiva del 2 aprile 2021, hanno partecipato, nelle due sessioni in cui essa si è articolata, in totale n. 137 (centotrentasette) candidati sui n. 300 che avevano presentato regolare istanza entro il termine del 02/03/2020;

Visto l'allegato Verbale delle operazioni a firma dei componenti dell'Agenzia TM Consulting S.r.l. da cui si evince la regolarità delle attività, l'assenza di contestazioni, con tutta la documentazione a corredo, costituita da:

- n. 5 Fogli di presenza per la sessione antimeridiana da cui risulta la presenza di n. 66 candidati;
- n. 5 Fogli di presenza per la sessione pomeridiana da cui risulta la presenza di n. 71 candidati;
- n. 1 Busta contenente i talloncini anagrafici dei candidati presenti alla sessione antimeridiana;
- n. 1 Busta contenente i moduli risposta dei candidati presenti alla sessione antimeridiana;
- n. 1 Busta contenente i talloncini anagrafici dei candidati presenti alla sessione pomeridiana;
- n. 1 Busta contenente i moduli risposta dei candidati presenti alla sessione pomeridiana;
- n. 1 Questionario contrassegnato dalla lettera "B" estratto nella sessione antimeridiana;
- n. 1 Questionario contrassegnato dalla lettera "A" estratto nella sessione pomeridiana;
- n. 1 Questionario contrassegnato dalla lettera "C" non estratto;
- Versione del Questionario "B" con indicazione delle risposte esatte;
- Versione del Questionario "A" con indicazione delle risposte esatte;
- Esito con graduatoria anonima della sessione antimeridiana della prova (Primo Turno);
- Esito con graduatoria nominativa della sessione antimeridiana della prova (Primo Turno);
- Esito con graduatoria anonima della sessione pomeridiana della prova (Secondo Turno);
- Esito con graduatoria nominativa della sessione pomeridiana della prova (Secondo Turno);
- Esito della prova preselettiva con graduatoria nominativa generale;

Ritenuto necessario approvare la documentazione di cui sopra da cui si evince la piena regolarità dello svolgimento della prova preselettiva del concorso in oggetto, nulla ostandovi;

Preso atto che dei 137 candidati partecipanti solo 34 hanno raggiunto il punteggio minimo di 56 punti su 80 complessivi come da prospetto allegato della graduatoria nominativa generale;

Considerato che occorre abbinare i nominativi dei suddetti n. 34 candidati ai profili per i quali concorrono, al fine di verificare se rientrano tra coloro che passano alla fase successiva del concorso, consistente nella prova scritta, atteso che il bando prevede il passaggio alla prova scritta per un numero di candidati pari a 20 volte il numero dei posti messi a concorso per ciascun profilo, oltre i candidati esentati dalla prova preselettiva ai sensi dell'art. 20 comma 2-bis della l. 104/1992 e s.m. e integrazioni;

Visto il prospetto allegato riportante l'abbinamento dei 34 candidati che hanno raggiunto il punteggio minimo nella prova preselettiva con i profili per i quali essi hanno presentato regolare domanda di partecipazione al concorso, da cui risulta che, in base al punteggio conseguito nella prova preselettiva, passano alla prova scritta:

- n. 20 su 23 candidati partecipanti per il profilo IAMM (Istruttore Amministrativo Settore AA. GG.);
- n. 15 su 15 candidati partecipanti per il profilo IAMT (Istruttore Amministrativo Settore Tributi);

- n. 11 su 11 candidati partecipanti per il profilo ITG (Istruttore Tecnico Geometra);
- n. 7 su 7 candidati partecipanti per il profilo ICR (Istruttore Contabile Ragioniere);
- n. 3 su 3 candidati partecipanti per il profilo EICT (Istruttore Informatico Esperto ICT);

Rilevata la propria competenza ai sensi del decreto Legislativo 18 agosto 2000, n. 267 e l'insussistenza di situazioni di conflitto, anche potenziale, rispetto all'emanazione del presente atto;

Visti:

- il Decreto Legislativo 18 agosto 2000, n. 267 recante "*Testo unico delle leggi sull'ordinamento degli enti locali*" e successive modifiche e integrazioni e, in particolare, l'art. 107, che disciplina gli adempimenti di competenza dei responsabili dei servizi/settori;
- il Decreto Legislativo 14 marzo 2013, n. 33 recante "*Riordino della disciplina riguardante il diritto di accesso civico e gli obblighi di pubblicità, trasparenza e diffusione di informazioni da parte delle pubbliche amministrazioni*" e successive modifiche e integrazioni;
- lo Statuto Comunale;
- il vigente Regolamento di contabilità;
- il vigente Regolamento sul sistema dei controlli interni;

DETERMINA

1. **di approvare** la precedente premessa, che forma parte integrante e sostanziale, nonché motivazione in fatto e diritto, della presente determinazione;
2. **di prendere atto** che:
 - in data 2 aprile 2021 si è regolarmente svolta, con l'ausilio della agenzia specializzata TM Consulting S.r.l. e sotto il controllo del Comitato di Vigilanza nominato con precedenti atti citati in premessa, la prevista prova preselettiva del Concorso pubblico per soli esami per la copertura a tempo pieno ed indeterminato di n. 7 (sette) posti per profili professionali vari di Istruttore, di categoria C e posizione economica iniziale C1, come da avviso pubblico pubblicato in data 5 marzo 2021 nella prima pagina e nella sezione Amministrazione Trasparente del sito internet www.comune.vallodellalucania.sa.it e come da successivo avviso-calendario-piano operativo prot. n. 3227 del 18/03/2021 pubblicato con le medesime modalità innanzi descritte ed all'Albo Pretorio on line del Comune di Vallo della Lucania;
 - alla prova preselettiva del 2 aprile 2021, hanno partecipato, nelle due sessioni antimeridiana e pomeridiana in cui essa si è articolata, in totale, n. 137 (centotrentasette) candidati sui n. 300 che avevano presentato regolare istanza entro il termine del 02/03/2020 previsto dal Bando;
3. **di approvare** l'allegato Verbale delle operazioni svolte durante le due sessioni della prova preselettiva del concorso in oggetto redatto ed a firma del team di esperti inviato dall'Agenzia TM Consulting S.r.l. da cui si evince la regolarità delle attività, l'assenza di contestazioni, con tutta la documentazione a corredo conservata agli atti del pertinente fascicolo, costituita da:
 - n. 5 Fogli di presenza per la sessione antimeridiana da cui risulta la presenza di n. 66 candidati;
 - n. 5 Fogli di presenza per la sessione pomeridiana da cui risulta la presenza di n. 71 candidati;
 - n. 1 Busta contenente i talloncini anagrafici dei candidati presenti alla sessione antimeridiana;
 - n. 1 Busta contenente i moduli risposta dei candidati presenti alla sessione antimeridiana;
 - n. 1 Busta contenente i talloncini anagrafici dei candidati presenti alla sessione pomeridiana;
 - n. 1 Busta contenente i moduli risposta dei candidati presenti alla sessione pomeridiana;
 - n. 1 Questionario contrassegnato dalla lettera "B" estratto nella sessione antimeridiana;
 - n. 1 Questionario contrassegnato dalla lettera "A" estratto nella sessione pomeridiana;
 - n. 1 Questionario contrassegnato dalla lettera "C" non estratto;
 - Versione del Questionario "B" con indicazione delle risposte esatte;
 - Versione del Questionario "A" con indicazione delle risposte esatte;
 - Esito con graduatoria anonima della sessione antimeridiana della prova (Primo Turno);
 - Esito con graduatoria nominativa della sessione antimeridiana della prova (Primo Turno);
 - Esito con graduatoria anonima della sessione pomeridiana della prova (Secondo Turno);

- Esito con graduatoria nominativa della sessione pomeridiana della prova (Secondo Turno);
 - Esito della prova preselettiva con graduatoria nominativa generale;
4. di **approvare** i prospetti allegati della graduatoria nominativa generale e di abbinamento dei 34 candidati che hanno raggiunto il punteggio minimo nella prova preselettiva con i profili per i quali essi hanno presentato regolare domanda di partecipazione al concorso, da cui risulta che, in base al punteggio conseguito nella prova preselettiva, passano alla prova scritta:
- n. 20 su 23 candidati partecipanti per il profilo IAMM (Istruttore Amministrativo Settore AA. GG.);
 - n. 15 su 15 candidati partecipanti per il profilo IAMT (Istruttore Amministrativo Settore Tributi);
 - n. 11 su 11 candidati partecipanti per il profilo ITG (Istruttore Tecnico Geometra);
 - n. 7 su 7 candidati partecipanti per il profilo ICR (Istruttore Contabile Ragioniere);
 - n. 3 su 3 candidati partecipanti per il profilo EICT (Istruttore Informatico Esperto ICT);
5. di **rinvviare** a successivo provvedimento la nomina della Commissione Esaminatrice del concorso in oggetto che dovrà presiedere allo svolgimento della prevista prova scritta e della ultima prova orale per ciascuno dei cinque profili messi a concorso, nonché la fissazione del calendario di tutte le prove con il preavviso stabilito dal Bando;
6. di **attestare**, ex art. 147 bis, comma 1 del Decreto Legislativo 18 agosto 2000, n. 267, la regolarità tecnico amministrativa del presente provvedimento in ordine alla regolarità, legittimità e correttezza dell'azione amministrativa il cui parere favorevole è reso unitamente alla sottoscrizione del presente provvedimento e dare atto che sul presente provvedimento non necessita acquisire il parere di regolarità contabile e l'attestazione di copertura finanziaria della spesa non producendo lo stesso, allo stato, alcune riflessi di natura economica, finanziaria e patrimoniale;
7. di **rendere noto** che il Responsabile Unico del procedimento nonché del sujesteso provvedimento è il sottoscritto Responsabile del Settore Affari Generali;
8. di **dare atto** che il presente provvedimento è soggetto agli obblighi di pubblicità di cui al Decreto Legislativo 14 marzo 2013, n. 33 e successive modifiche e integrazioni;
9. di **trasmettere** la presente determinazione, comportando riflessi diretti o indiretti sulla situazione economico-finanziaria dell'ente, al Responsabile del Settore Finanziario per il rilascio del parere di regolarità contabile e dell'attestazione di copertura della spesa;
10. di **disporre** la pubblicazione del presente provvedimento e degli atti allegati all'albo pretorio on-line e sul sito internet del Comune di Vallo della Lucania

Vallo della Lucania, 6 aprile 2021

Il Responsabile del Settore Affari Generali
Valerio RIZZO





80078 Pozzuoli NA
Via Antiniana, 2G
Tel. +39 081 5628260

P. IVA 07052751216
Iscrizione CCIAA Napoli REA 858163

OGGETTO: VERBALE TM CONSULTING SURL, AGGIUDICATARIA DEL SERVIZIO DI GESTIONE INFORMATIZZATA DELLA PROVA PRESELETTIVA IN OGGETTO.

L'anno duemilaventuno il giorno 2 del mese di Aprile dalle ore 9,00 e fino alla fine delle operazioni, presso le 5 sedi concorsuali (come da Avviso n° 3227/2021), sono presenti per TM Consulting:

Dott. Danilo Formisano, il Dott. Fabrizio Guidotti e il Dott. Riccardo Cremona.

È presente il Comitato di Vigilanza, composto da 10 dipendenti del Comune di Vallo della Lucania, nominato e presieduto dall'Avvocato Valerio Rizzo nella qualità di responsabile del settore AA.GG. del Comune medesimo. Sono stati predisposti tre test dalla TM Consulting denominati come versioni A, B e C. I presenti al primo turno di convocazione, dopo le operazioni di riconoscimento risultano essere in n. 66. Ognuno di essi ha sottoscritto il foglio di presenza (in entrata) che viene allegato al presente verbale.

Il Consulente della TM Consulting rammenta ai candidati i loro adempimenti durante lo svolgimento della prova, nonché quelli successivi alla conclusione concernenti le operazioni di riunione delle prove mediante la lettura del foglio istruzioni che viene consegnato a tutti i candidati presenti. Si procede alla individuazione del test che costituirà la prova d'esame. Nella sede principale individuata nell'edificio scolastico ex Istituto magistrale G.Verga, due candidati volontariamente, dopo aver constatato l'integrità delle buste preparate per l'estrazione, sorteggiano il test che costituirà la prova d'esame. Viene sorteggiata la prova versione B che viene firmata dai due candidati e stampata ed imbustata in loco. Le versioni non estratte (A e C) vengono conservate per il secondo turno. La durata della prova è fissata in 80 minuti. Alle ore 11,35 inizia la prova e alle ore 12,55 termina la prova. Alle ore 15,00 iniziano le fasi di riconoscimento del secondo turno di convocazione. I presenti per il secondo turno di convocazione, dopo le operazioni di riconoscimento, risultano essere in n. 71. Ognuno di essi ha sottoscritto il foglio di presenza (in entrata) che viene allegato al presente verbale. Il Consulente della TM Consulting rammenta ai candidati i loro adempimenti durante lo svolgimento della prova, nonché quelli successivi alla conclusione concernenti le operazioni di riunione delle prove mediante la lettura del foglio istruzioni che viene consegnato a tutti i candidati presenti.

Si procede alla individuazione del test che costituirà la prova d'esame.

Nella medesima sede di cui sopra, due candidati volontariamente, dopo aver constatato l'integrità delle buste preparate per l'estrazione, sorteggiano il test che costituirà la prova d'esame. Viene sorteggiata la prova versione A che viene firmata dai due candidati e stampata ed imbustata in loco. La versione non estratta (C) viene aperta, mostrata ai candidati, firmata dagli stessi e allegata al presente verbale. La durata della prova è fissata in 80 minuti. Alle ore 15,55 inizia la prova e alle ore 17,15 termina la prova. Al termine del secondo turno di convocazione, TM Consulting procede alle operazioni di correzione automatizzata delle prove che avviene aperta al pubblico. Alle ore 17.50 si concludono le operazioni con la consegna e l'affissione dell'esito anonimo del primo turno all'ingresso della sede d'esame. Successivamente viene effettuata l'operazione di abbinamento del modulo risposta con il modulo anagrafico, ottenendo l'esito nominativo ordinato per punteggio. Alle ore 17:55 si concludono le operazioni con la consegna e l'affissione dell'esito nominativo del primo turno all'ingresso della sede d'esame. Alle ore 18.15 si concludono le operazioni con la consegna e l'affissione dell'esito anonimo del secondo turno all'ingresso della sede d'esame. Successivamente viene effettuata l'operazione di abbinamento del modulo risposta con il modulo anagrafico, ottenendo l'esito nominativo ordinato per punteggio. Alle ore 18:20 si concludono le operazioni con la consegna e l'affissione dell'esito nominativo del secondo turno all'ingresso della sede d'esame. Viene inoltre elaborata e consegnata la graduatoria generale frutto dell'aggregazione degli esiti dei due turni di convocazione.

Vengono consegnati, oltre a quando già indicato:

- le buste contenenti i moduli risposta del I e del II turno;
 - le buste contenenti i talloncini di riconoscimento del I e del II turno;
 - il supporto contenente il materiale concorsuale – moduli risposta, talloncini di riconoscimento, correttori, test estratti, elenco anonimo, elenco nominativo, elenco per gli accessi agli atti del I e del II turno, elenco generale
- Alle ore 18.45 si concludono le operazioni.

Del che è redatto verbale, letto, approvato e sottoscritto in ogni sua parte.

Dott. Danilo Formisano

Dott. Fabrizio Guidotti

Dott. Riccardo Cremona

PER ACCETTAZIONE ALLA CONSEGNA:

www.tmconsulting.work




Una società del gruppo Tempi Moderni S.p.A.

Draw ESTIMATA II TURBO

Karlito Salas

see



COMUNE DI VALLO DELLA LUCANIA – N. 7 POSTI PER PROFILI
PROFESSIONALI VARI DI ISTRUTTORE DI CATEGORIA C - PROVA PRESELETTIVA - **VERSIONE A**

LEGGERE IL BRANO E RISPONDERE ALLE DOMANDE.
Pochi aspetti della vita quotidiana ci appaiono tanto inevitabili quanto la circolazione del denaro. Per decine, se non per centinaia di volte al giorno, cediamo denaro in cambio di beni e servizi o ne accettiamo come compensazione per le più varie prestazioni. L'apparente "naturalità" di questo meccanismo tende a farci dimenticare che la circolazione e per la verità l'esistenza stessa del denaro è una delle più complesse e delicate operazioni di ingegneria sociale mai realizzate dall'umanità. Il denaro è allo stesso tempo, e tra le altre cose, un mezzo di pagamento e una riserva di valore; eppure non è altro che un rettangolo di carta filigranata la cui unica qualità è appunto quella di essere universalmente accettato come corrispettivo per la cessione di qualunque bene o servizio. In altre parole il denaro è un classico esempio di convenzione sociale: uno stato di cose abituale, atteso, che si autoalimenta

- 1) Secondo il brano il denaro è in definitiva:
 - a) un rettangolo di carta senza alcun valore e qualità
 - b) un classico esempio di convenzione sociale
 - c) l'indice di produttività di una società
- 2) Secondo il brano la circolazione del denaro:
 - a) impedisce la circolazione di beni e servizi
 - b) è un aspetto del quotidiano che ci appare inevitabile
 - c) risponde ad esigenze di naturalezza
- 3) Secondo il brano se il denaro non esistesse:
 - a) Non esisterebbero riserve di valore
 - b) Ci sarebbe un altro mezzo di pagamento
 - c) L'uomo sarebbe meno evoluto
- 4) Secondo il brano il denaro ha come unica qualità:
 - a) quella di essere solo una riserva di valore
 - b) quella di essere da tutti accettato come corrispettivo per la cessione di beni o servizi
 - c) quella di essere realizzato in carta pregiata
- 5) Secondo il brano l'esistenza del denaro:
 - a) indica il grado di evoluzione di una società industrializzata
 - b) non è una convenzione universalmente accettata
 - c) è una delle più complesse operazioni compiute dall'umanità
- 6) Quattro amici, dopo un anno di lezioni di canto, decidono che ognuno affronti un altro in un genere musicale diverso da quello studiato: Aurora ha preso lezioni di musica pop, Bice di musica blues, Carlo di musica rock, Dario di lirica. Se Aurora affronta Bice nella lirica, mentre Carlo affronta Dario nel pop, in quali generi musicali possono affrontarsi Bice e Carlo?
 - A) Lirica o rock.
 - B) Pop o lirica.
 - C) Blues o pop.
- 7) Tre stranieri (A, B, C) di nazionalità cinese, russa e indiana, non necessariamente in quest'ordine, sono in fila per ritirare i documenti per richiedere il permesso di soggiorno. L'indiano B è subito dietro a C; il cinese, primo, non si chiama A. Chi ritirerà per ultimo i documenti e di quale nazionalità è?
 - A) A di nazionalità cinese.
 - B) B di nazionalità russa.
 - C) A di nazionalità russa.
- 8) INDICARE COME SI LEGGE AL CONTRARIO IL SEGUENTE GRUPPO LETTERARIO: CANZONE
 - A) ENOZNAC
 - B) CNAZONE
 - C) CNAZENOC
- 9) Identificare la sequenza corretta:
 - 1) aprire la posta elettronica; 2) accendere il computer; 3) spegnere il computer; 4) controllare la posta elettronica; 5) rispondere alle e-mail; 6) sedersi davanti alla scrivania.
 - A) 6, 2, 4, 3, 1, 5.
 - B) 6, 2, 1, 4, 5, 3.
 - C) 6, 2, 1, 5, 3, 4.

10) Se la parola GRONDE viene scritta sotto a TIFONE, la parola DRIVER viene scritta sotto a GRONDE, la parola ECCOVI viene scritta sotto a DRIVER e la prima e l'ultima parola sono rispettivamente PRISMA e RINITE, allora in diagonale si può leggere:

- A) PIOVVE.
- B) PIOPPPO.
- C) PIPOLO.

11) Se l'espressione "Uscire con la testa rotta" sta a "uscire perdenti, sconfitti o a mal partito da un contrasto, una disputa" allora l'espressione "Sentirsi piegare le ginocchia" sta a:

- A) Aver parte in una certa faccenda.
- B) Sentirsi mancare per debolezza, paura.
- C) Constatere direttamente.

12) Inserire il vocabolo che permetta di completare la prima parola e formare l'inizio della seconda in modo che entrambe abbiano senso compiuto e siano di uso corrente:
INCO (?) CINO.

- A) NTRO
- B) MODE.
- C) LUMI.

13) INDIVIDUARE, TRA LE ALTERNATIVE DI RISPOSTA, QUELLA CHE CONTIENE IL SEGUENTE GRUPPO DI LETTERE: STCMN.

- A) XSXXTXGXXNXXMXXXXXXX;
- B) XXSXXTXXCXXXXMXXNXXX;
- C) XXXSXTXXKXXMXXXXNXXX.

14) Osservare attentamente le seguenti coppie di termini e indicare quella che non c'entra con le altre.

- a) alle - ella;
- b) ella - essa;
- c) asse - essa.

15) Osservare attentamente le seguenti coppie di termini e indicare quella che non c'entra con le altre.

- a) aedi - idea;
- b) sub - bus;
- c) varco - orava.

16) Quale dei termini indicati completa in modo logico la seguente proporzione verbale?

"SETA" sta a "TESA" come "MARE" sta a "?".

- A) MERA.
- B) RAME.
- C) ARMI.

17) In quale sequenza di lettere le "N" sono più numerose delle "P"?

- A) NALGNLPLPGPA
- B) MENJENAPMEPJ
- C) NFXJNFNPJFPX

18) Se cullare = 7 e bravissimo = 10 quale delle seguenti relazioni sarà vera?


- A) centrale = 8
- B) finalità = 5
- C) inizio = 8

19) SE GIADA=5, CLAUDIA=7, STEFANIA=8, ELISABETTA=10, MARIATELLA=?

- a) 11
- b) 10
- c) 9

20) SE LA SEQUENZA E' "MINUSCOLO MAIUSCOLO", QUALE RIGA E' SCRITTA IN MODO CORRETTO?

- A) dFrYmhOpLmM
- B) aWeQsDhHLaA
- C) mNpOuYpDwaF



- 21) Nella camera da letto di Alessandra, il letto sta tra l'armadio e la poltrona. L'armadio si trova tra la poltrona e la specchiera. Conseguentemente:
a) Il letto si trova tra l'armadio e la specchiera
b) La poltrona è più vicina alla specchiera che al letto
c) Il letto è più vicino all'armadio che alla specchiera
- 22) Arianna non dice il falso solo a Barbara, che solo a lei non dice il vero. Carlo dice il vero ma non a Barbara e Michele non dice il falso solo a Barbara. Se uno dei quattro dice all'altro "Mi piacciono i libri che scrivi", ciò è:
A) Falso, se Michele lo dice a Carlo o ad Arianna.
B) Falso, se Barbara lo dice a Carlo o a Michele.
C) Vero, se Arianna lo dice a Carlo o a Michele.
- 23) Di quante parole si compone la frase?
MARIAHACOMPRATOTOVAGLIEPERREGALARLEALLASO
RELLA.
A) 8
B) 10
C) 7
- 24) Quale parola si avvicina di più al termine "oneroso"?
A) Faticoso.
B) Responsabile.
C) Onorabile.
- 25) In base all'informazione "tutte le trasmissioni Rai sono molto seguite", quale delle seguenti affermazioni è necessariamente vera?
A) Non esistono trasmissioni Rai poco seguite
B) Le trasmissioni politiche della Rai sono poco seguite
C) La Rai è in fallimento
- 26) Se un'azione di una determinata società vale € 1,60, con € 7.000,00, quante azioni si ottengono?
A) 4375
B) 8000
C) 6375
- 27) Quale numero moltiplicato per 5 va sottratto a 4176 per ottenere 91?
A) 864
B) 894
C) 817
- 28) DETERMINARE X SAPENDO CHE DIVIDENDO PER 5 IL QUADRUPLO DI X SI OTTIENE 8
A) 12
B) 10
C) 15
- 29) DATO $22 : 2 = X : 4$, DETERMINARE IL VALORE DI X
A) 44
B) 78
C) 52
- 30) Lo stipendio mensile di un impiegato dopo aver subito un aumento del 6% passa a 1.431 euro. Quanto percepiva mensilmente l'impiegato prima dell'aumento?
A) 1.200 euro
B) 1.425 euro
C) 1.350 euro
- 31) Ci troviamo in una stazione ferroviaria che è attigua all'imbocco di una lunga galleria. Siamo affetti da claustrofobia, e saliamo su di un treno che deve attraversare la lunga galleria immediatamente dopo la partenza; in quale vagone prenderemo posto se vogliamo trascorrere il minor tempo possibile nella galleria (teniamo conto della velocità crescente del treno)?
a) Il vagone di centro
b) L'ultimo vagone
c) Il primo vagone
- 32) Maria è alta 172 cm, Ida 175 cm, Valeria 166 cm. Quale è l'altezza media delle tre ragazze?
a) 171 cm
b) 170 cm
c) 169 cm
- 33) DATO $55 : 60 = X : 12$, DETERMINARE IL VALORE DI X
a) 10
b) 11
c) 13
- 34) DATO $72 : 81 = X : 9$, DETERMINARE IL VALORE DI X
a) 8
b) 7
c) 6
- 35) LA SOMMA DI DUE NUMERI È 49 E UNO È I 2/5 DELL'ALTRO. QUALI SONO I DUE NUMERI?
A) 28 e 21
B) 35 e 14
C) 30 e 19
- 36) 15 lanterne hanno petrolio per 7 giorni. Se le lanterne fossero 3, quanti giorni durerebbe il petrolio?
A) 36
B) 35
C) 68
- 37) La metà del quadrato della somma tra 3 e 5 è:
a) 15;
b) 32;
c) 23.
- 38) Inserire l'elemento giusto al posto dei puntini: 4, 12, 36, 108,
A) 432;
B) 216;
C) 324.
- 39) A quanti minuti corrispondono 7 giorni?
A) 10080
B) 12010
C) 11520
- 40) In un gruppo di 48 persone si trovano 42 laureati. Quale percentuale del gruppo è costituita da NON laureati?
A) 12,5%
B) 85%
C) 25%
- 41) Gino ha 3 anni meno di Paolo. Paolo ha 2 anni più di Pietro. Se Gino ha 18 anni, quanti anni ha Pietro?
A) 19
B) 21
C) 22
- 42) Giada ha 23 anni, suo fratello minore Renato ha 4 anni di differenza e la madre ha 53 anni. Che età avevano Giada e la madre quando è nato Renato?
A) La madre 31 anni e Giada 7 anni.
B) La madre 35 anni e Giada 5 anni.
C) La madre 34 anni e Giada 4 anni.
- 43) Se ogni 36 scatole di conserva ne vengono scartate nove non conformi, qual è la percentuale di scatole inoltrate alla vendita?
A) 60%
B) 87,5%
C) 75%
- 44) Una carota, una cipolla e una zucchina costano complessivamente 1 euro e 80 centesimi; sapendo che la carota costa quanto una zucchina meno 25 centesimi e che una cipolla costa quanto una zucchina meno 50 centesimi, determinare il costo di una zucchina.
A) 90 centesimi.
B) 85 centesimi.
C) 70 centesimi.

COMUNE DI VALLO DELLA LUCANIA – N. 7 POSTI PER PROFILI
PROFESSIONALI VARI DI ISTRUTTORE DI CATEGORIA C - PROVA PRESELETTIVA - VERSIONE A

45) Un imbianchino dipinge 2/5 di una stanza consumando 6 kg di vernice. Quanta vernice occorre per verniciare allo stesso modo la restante parte della stanza?

- A) 8 kg.
- B) 9 kg.
- C) 15 kg.

46) Individuare nelle file di numeri che vengono proposte al di sotto dei segni dati, quella che, utilizzando tutti i segni, dà come risultato il numero posto in parentesi: $x + - x x ; = (19)$

- a) 8 1 6 5 3 6 1;
- b) 2 9 7 6 2 4 8;
- c) 1 3 6 1 3 7 4.

47) Maurizio ha 4 anni più di Lisa e Anna ha 6 anni più di Maurizio. Se Lisa ha quindici anni, quanti anni ha Anna?

- a) 25
- b) 32
- c) 28

48) Le automobili straniere importate in Italia nel 2020 sono state 350.000. Di queste il 30% era giapponese. Quante sono state le auto straniere non giapponesi importate quell'anno?

- A) 105.000
- B) 245.000
- C) 205.000

49) La differenza tra due numeri risulta 347 e il minore è 149. Qual è l'altro?

- A) 198.
- B) 476.
- C) 496.

50) Il Signor Bianchi ha lavorato per i 4/7 della sua vita. Se ha lavorato per 28 anni, quanti anni ha?

- A) 56
- B) 49
- C) 47

51) Secondo l'art. 114 della Costituzione i Comuni sono:

- a) Enti strumentali.
- b) Enti non territoriali.
- c) Enti autonomi.

52) Secondo l'art. 119 della Costituzione, le Città metropolitane hanno autonomia finanziaria?

- a) No
- b) Sì, soltanto di entrata.
- c) Sì, di entrata e di spesa.

53) Ai sensi dell'art. 117 della Costituzione, quale tra le seguenti è una materia su cui lo Stato ha legislazione esclusiva?

- A) Difesa e Forze armate; sicurezza dello Stato; armi, munizioni ed esplosivi.
- B) Commercio con l'estero.
- C) Ricerca scientifica e tecnologica.

54) Ai sensi dell'art 116 della Costituzione, quali Regioni italiane dispongono di forme e condizioni particolari di autonomia, secondo i rispettivi "Statuti speciali" adottati con legge costituzionale?

- A) Il Friuli Venezia Giulia, le Marche, la Sicilia, il Trentino-Alto Adige/Südtirol ed il Veneto.
- B) Il Friuli Venezia Giulia, la Sardegna, la Sicilia, il Trentino-Alto Adige/Südtirol e la Valle d'Aosta.
- C) La Sardegna, la Sicilia, la Basilicata, il Molise ed il Trentino-Alto Adige/Südtirol.

55) Secondo l'art. 116 della Costituzione, a singole Regioni a statuto ordinario possono essere attribuite ulteriori forme e condizioni particolari di autonomia:

- a) In materia di sicurezza dello Stato.
- b) In materia di tutela dell'ambiente, dell'ecosistema e dei beni culturali.
- c) In qualsiasi materia prevista dallo statuto.

56) Secondo l'art. 126 della Costituzione, il Consiglio regionale può essere sciolto e il Presidente della Giunta regionale può essere rimosso:

- a) Per ragioni di sicurezza nazionale, quando abbiano compiuto atti contrari alla Costituzione o gravi violazioni di legge.
- b) Solo a seguito dell'approvazione della mozione di sfiducia da parte del Consiglio regionale nei confronti del Presidente della Giunta eletto a suffragio universale e diretto.
- c) Nessuna delle risposte è corretta

57) La legge n. 241/1990 dispone che è nullo:

- a) il provvedimento amministrativo che manca degli elementi occasionali.
- b) il provvedimento amministrativo che manca degli elementi essenziali.
- c) il provvedimento amministrativo che manca degli elementi irrivali.

58) Il silenzio assenso:

- A) Si realizza quando l'Amministrazione ometta di provvedere ed a tale omissione non sia collegata alcuna attribuzione legislativa di significato
- B) Non è ammesso nel nostro ordinamento.
- C) E' previsto dall'art. 20 delle legge 241/1990.

59) L'avvio del procedimento amministrativo ai sensi della Legge 241/90 è comunicato:

- a) solo ai soggetti che per legge debbono intervenire.
- b) ai soli soggetti nei confronti dei quali il provvedimento finale è destinato a produrre effetti diretti se negativi.
- c) a soggetti individuati o facilmente individuabili, diversi dai diretti destinatari del provvedimento, qualora da quest'ultimo possa derivare loro pregiudizio.

60) A norma della legge 7 agosto 1990, n. 241, i soggetti intervenuti nel procedimento:

- a) Non possono presentare memorie scritte e documenti.
- b) Hanno gli stessi diritti dei soggetti destinatari della comunicazione di avvio del procedimento.
- c) Possono solo prendere visione degli atti del procedimento.

61) Quali sono i principi che governano l'azione amministrativa?

- A) Economicità, efficacia, imparzialità, pubblicità e trasparenza, nonché i principi dell'ordinamento comunitario.
- B) Pubblicità e trasparenza e i principi dell'ordinamento comunitario, mentre non vigono i principi di economicità ed efficienza
- C) Economicità, efficacia, pubblicità e trasparenza, mentre restano estranei all'azione amministrativa i principi dell'ordinamento comunitario.

62) Quale figura ha istituito la L. 241/90 a tutela della trasparenza e dell'efficienza dell'amministrazione?

- a) Il referente dell'URP.
- b) Il responsabile del procedimento.
- c) Il funzionario di fatto.

63) Secondo il TUEL, i comuni sono titolari di funzioni:

- A) Unicamente conferite con legge dello Stato e della regione, secondo il principio di suppletività.
- B) Proprie, oltre che di quelle conferite con legge dello Stato e della regione, secondo il principio di sussidiarietà.
- C) Unicamente conferite con legge dello Stato, secondo il principio di sussidiarietà.

64) Secondo il TUEL, il Sindaco, quale ufficiale del Governo, chi deve informare preventivamente per tutto quanto riguarda la sicurezza e l'ordine pubblico?

- a) Il Prefetto.
- b) Il Questore.
- c) Il Presidente della Regione



65) A norma del Testo Unico delle leggi sull'ordinamento degli enti locali le funzioni relative al servizio elettorale sono esercitate:

- a) Dal Sindaco, quale capo dell'amministrazione comunale
- b) Dalla Giunta comunale, collegialmente
- c) Dal Sindaco, quale ufficiale del Governo

66) Cosa succede in caso di rimozione o decadenza del Sindaco?

- A) La Giunta decade e si procede allo scioglimento del Consiglio, che rimangono in carica sino alla elezione del nuovo Consiglio e del nuovo Sindaco.
- B) Il Consiglio comunale provvede alla nomina di un nuovo Sindaco.
- C) Si procede allo scioglimento del Consiglio che nomina un commissario.

67) A norma del TUEL il Sindaco presta giuramento:

- a) Di conoscere le leggi dello Stato italiano;
- b) Di osservare lealmente le leggi vigenti in materia di enti locali;
- c) Di osservare lealmente la Costituzione italiana.

68) Ai sensi del TUEL, il Documento Unico di Programmazione si compone di:

- a) Due sezioni: sezione programmatica e sezione operativa.
- b) Tre sezioni: sezione politica, sezione amministrativa e sezione gestionale.
- c) Due sezioni: sezione strategica e sezione operativa.

69) Ai sensi del vigente D.Lgs. n. 165/2001, le amministrazioni pubbliche curano la formazione e l'aggiornamento del personale?

- A) no.
- B) sì.
- C) esclusivamente dei dirigenti e dei funzionari

70) Le assunzioni obbligatorie delle categorie protette e tirocinio per portatori di handicap riguardano anche le amministrazioni pubbliche?

- a) Sì, lo prevede espressamente l'art. 39 del D.Lgs. n. 165/2001.
- b) No, riguardano solo i privati con più di 30 dipendenti.
- c) Riguardano solo le amministrazioni centrali dello Stato e gli enti pubblici economici.

71) Ai sensi dell'articolo 45 del d.lgs. 165/2001, il trattamento fondamentale e accessorio dei dipendenti pubblici:

- A) è definito dai contratti collettivi
- B) è definito dalla legge di stabilità
- C) è definito dal Documento di economia e finanza

72) Ai sensi dell'art. 35 del d.lgs. 165/2001, i vincitori dei concorsi per il reclutamento del personale presso le Amministrazioni Pubbliche devono permanere nella sede di prima destinazione per un periodo non inferiore a:

- A) cinque anni, non derogabile dai contratti collettivi
- B) un anno
- C) sette anni, non derogabile dai contratti collettivi

73) Ai sensi del D.Lgs. 165/2001, negli enti locali le dotazioni organiche, le modalità e i requisiti di accesso all'impiego sono disciplinati:

- a) Dallo Statuto
- b) dallo stesso D.Lgs. 165/2001
- c) Con regolamento sull'ordinamento degli uffici e dei servizi nel rispetto dei principi fissati dal suddetto decreto

74) Ai sensi del D.Lgs. 165/2001 a chi spetta l'adozione degli atti che impegnano le pubbliche amministrazioni verso l'esterno?

- a) Ai dirigenti
- b) Agli organi di governo
- c) Al Direttore Generale

75) Gli obblighi di pubblicazione on-line:

- A) Sono previsti dal D.Lgs. 33 del 2013.
- B) Sono previsti dal TUP
- C) Sono previsti dalla legge sul procedimento amministrativo.

76) Il D.Lgs. 33 del 2013:

- A) Prevede sanzioni solo detentive.
- B) Non prevede sanzioni.
- C) Prevede sanzioni.

77) L'omessa pubblicazione di documenti:

- A) Viola il D.Lgs. 165 del 2001.
- B) Viola il D.Lgs. 33 del 2013.
- C) Viola il D.Lgs. 50 del 2016.

78) La legge anticorruzione:

- A) Prevede percorsi formativi mirati.
- B) Non prevede percorsi formativi mirati.
- C) Prevede percorsi formativi generici.

79) La legge anticorruzione prevede che:

- A) Ogni Amministrazione locale definisce un piano di prevenzione della corruzione
- B) Solo le Amministrazioni regionali definiscono un piano di prevenzione della corruzione.
- C) Ogni Amministrazione definisce un piano di prevenzione della corruzione.


80) La segnalazione di una condotta illecita:

- A) Può essere presentata solo mediante posta elettronica certificata.
- B) Può essere presentata mediante posta elettronica certificata.
- C) Può essere presentata solo mediante posta ordinaria.

DESA ESTORADA ITUALS

Rosine

Rosine Lenz



COMUNE DI VALLO DELLA LUCANIA – N. 7 POSTI PER PROFILI
PROFESSIONALI VARI DI ISTRUTTORE DI CATEGORIA C - PROVA PRESELETTIVA - VERSIONE B

LEGGERE IL BRANO E RISPONDERE ALLE DOMANDE
I media che si occupano del settore dell'intrattenimento si trovano a competere, dal punto di vista delle entrate economiche, con i media che pubblicano on line. La maggiore fonte di ricchezza per le emittenti televisive è rappresentata dalla vendita degli spazi pubblicitari e la concorrenza più serrata si sta verificando proprio da parte dei media presenti sulla rete. A complicare la situazione ci si mette anche l'introduzione della televisione sui telefonini cellulari, per effetto della convergenza tecnologica. A breve si arriverà ad avere un unico strumento tecnologico con cui parlare al telefono, guardare la televisione e navigare su Internet. I tempi non sono troppo lontani: è già stato presentato il primo telefono cellulare con televisione incorporata. La televisione interattiva porterà ad un ulteriore cambiamento di strategie aziendali e le entrate economiche che ne deriveranno saranno un misto tra vendita di spazi pubblicitari e commercio nel senso classico.

- 1) L'avvento della televisione interattiva:
a) Non comporterà grossi cambiamenti nelle strategie aziendali delle emittenti
b) Metterà a dura prova la tenuta economica dei media presenti sulla rete
c) Comporterà una ulteriore modifica di strategie aziendali
- 2) La vendita di spazi pubblicitari e il commercio nel senso classico:
a) Rappresenteranno con l'avvento della televisione interattiva, le entrate economiche delle aziende
b) Sono le uniche fonti di ricchezza dei media presenti sulla rete
c) Nessuna delle risposte è corretta
- 3) Per contrastare la concorrenza dei media presenti sulla rete:
a) Per effetto della convergenza tecnologica le emittenti inizieranno a trasmettere on line
b) Molte emittenti hanno consolidato le vecchie strategie aziendali
c) Nessuna delle risposte è corretta
- 4) La convergenza tecnologica:
a) Ridimensionerà la vendita di spazi pubblicitari
b) Ha permesso l'introduzione della televisione sui telefoni cellulari
c) Nessuna delle risposte è corretta
- 5) La concorrenza più serrata alle emittenti televisive:
a) Si sta verificando da parte dei media che pubblicano on line
b) Ha costretto i media che operano sulla rete a cambiare strategia aziendale
c) Ha portato molte emittenti a pubblicare in rete
- 6) Sei amici (Paolo, Pietro, Matteo, Roberto, Savino, Romolo) siedono ad una tavola rettangolare, due da un lato, due dall'altro e due ai capotavola. Pietro è di fronte a Savino, Roberto è di fronte a Romolo. Se né Pietro, né Romolo siedono a capotavola, chi siede a capotavola?
a) Savino e Matteo
b) Roberto e Paolo
c) Paolo e Matteo
- 7) Piero, Quirino, Rosa, Sara, Tony e Ursula siedono ad una tavola rotonda. Gli uomini siedono tra due donne. Rosa è tra Piero e Tony. Se Sara non può sedere accanto a Tony, chi siederà vicino a Quirino?
A) Rosa e Ursula.
B) Rosa e Sara.
C) Sara e Ursula.
- 8) INDICARE COME SI LEGGE AL CONTRARIO IL SEGUENTE GRUPPO LETTERARIO: PEDALE
A) ELADPE
B) PDELAP
C) ALEDAP

9) Una frase è stata divisa in cinque parti, che successivamente sono state mescolate e che di seguito sono proposte in ordine casuale: [1) affermò che non avrebbe / 2) per risolvere quel caso. / 3) tralasciato nessun mezzo / 4) tra quelli a sua disposizione / 5) l'ispettore di polizia]. Ricomporre correttamente la frase.

- a) 5); 1); 3); 4); 2)
b) 3); 5); 2); 1); 4)
c) 4); 1); 5); 2); 3)

10) Mettere tra parentesi la parola che assume un significato che può essere ricondotto per analogia sia al termine che precede che a quello che segue:

- Torace (?) Corsetto.
A) Spalle
B) Busto
C) Osso

11) INDIVIDUARE, TRA LE ALTERNATIVE DI RISPOSTA, QUELLA CHE CONTIENE IL SEGUENTE GRUPPO DI LETTERE: FGLMS.

- A) XXFXXGXLLXXMXXSXXX.
B) XFXCXIXLXXMXXXXXXSX;
C) XXFXXGXNXXLXXXZXXX;

12) Se l'espressione "Partire col piede sbagliato" sta a "iniziare qualcosa con una mossa sbagliata" allora l'espressione "Lottare testa a testa" sta a:

- A) Correre con grande velocità.
B) Contendersi la vittoria con le stesse probabilità.
C) Commettere un errore.

13) Osservare attentamente le seguenti coppie di termini e indicare quella che non c'entra con le altre.

- a) villa - sfavillante;
b) lusso - afflusso;
c) cava - ricavare.

14) Osservare attentamente le seguenti coppie di termini e indicare quella che non c'entra con le altre.

- a) sale - sala;
b) punto - punta;
c) gradito - gradita.

15) Se la parola HUMOUR viene scritta sotto a SANGUE, la parola ORAMAI viene scritta sotto a HUMOUR, la parola LINNEO viene scritta sotto a ORAMAI e la prima e l'ultima parola sono rispettivamente CALURA e FLUIDO, allora in diagonale si può leggere:

- A) IBISCO
B) HORROR
C) CAMMEO

16) Supponiamo che la Juventus sia in testa al campionato di calcio e che il Torino sia al quinto posto. Se il Napoli si trova senz'altro in una posizione migliore del Torino e l'Inter si trova subito dopo il Milan, ma sempre tra i primi cinque, sapendo che l'Inter non occupa il terzo posto, quale squadra seguirà immediatamente la Juventus?

- a) Inter
b) Napoli
c) Milan

17) Se Jacopo è un giocatore di poker, tutti i giocatori di poker bevono vino, chi beve vino non utilizza il telefono, allora:

- a) Jacopo beve vino
b) Jacopo non beve vino e non utilizza il telefono
c) Jacopo utilizza il telefono e sa giocare a poker

18) Nella famiglia Rossi sono tutti figli unici. Il figlio del nonno del padre del nipote di Damiano Rossi è:

- A) Damiano Rossi
B) Il figlio di Damiano Rossi
C) Il padre di Damiano Rossi

19) I seguenti testimoni Tizio, Caio e Sempronio hanno dato le seguenti informazioni sul ladro. Tizio: era un individuo grasso e alto, oppure un tipo calvo o tutte e due le cose insieme. Caio: era un tipo alto o grasso, ma senza dubbio era calvo. Sempronio: era calvo e alto, ma se mi sbagliassi su questo sono sicuro che fosse un tipo grasso. L'ispettore scopre che Tizio e Sempronio hanno detto il vero, mentre Caio ha detto il falso. Da quale delle seguenti affermazioni si può correttamente dedurre:

- a) Il ladro era basso, grasso e calvo
- b) Il ladro era alto e grasso
- c) Il ladro era grasso e calvo

20) Quale doppia consonante può essere inserita nei gruppi: PL..A - HA..O - VE..E - CA..A, per formare parole di senso compiuto ed uso corrente?

- A) LL.
- B) SS.
- C) NN.

21) Indicare quali termini, tra le seguenti serie disposte orizzontalmente, si avvicinano al significato di "sbigottito".

- A) Perso Finito Ultimo
- B) Stupito Attonito Sbalordito
- C) Decisivo Risultato Gara

22) In quale sequenza di lettere le "A" sono meno numerose delle "V"?

- A) QAZAJVQJVZVQ.
- B) GAJGJAVGJGVG.
- C) GJAJAGAMVJVG.

23) INDIVIDUARE L'ALTERNATIVA CHE COMPLETA CORRETTAMENTE LA SEGUENTE PROPORZIONE DI TERMINI: GALLA : GIALLA = PALLA : X

- a) x = pialla
- b) x = stalla
- c) x = anguilla

24) Se la sequenza è "minuscolo maiuscolo", quale riga è scritta in modo corretto?

- A) eFhPaZgHuTqQzAaShUpQ
- B) pLgBnXaQeErRQfHyFSaoM
- C) iQcGvOLpAzRtYlmbaRuXhL

25) Individuare, tra le seguenti, la serie di termini non in ordine alfabetico:

- A) Religione, religioso, reliquia, relitto.
- B) Spazio, spazioso, spazzacamino, spazzaneve.
- C) Limitare, limite, limitato, limitazione.

26) Se un'azione di una determinata società vale € 0,05, con € 6.000,00, quante azioni si ottengono?

- a) 120000
- b) 92100
- c) 29000

27) Il doppio di quale numero, diminuito di 22, è uguale a 144?

- a) 93
- b) 83
- c) 103

28) Se 16 studenti su 100 conoscono l'inglese, quanti studenti su 150 conoscono l'inglese?

- a) 116
- b) 24
- c) 30

29) A quanti minuti corrispondono 12 giorni?

- a) 17280
- b) 15650
- c) 13240

30) Un bambino ha 24 mesi, suo cugino è maggiore di 5 anni. Trascorsi 9 anni quale età avrà il bambino e quale suo cugino?

- A) Il bambino 11 anni e suo cugino 16 anni.
- B) Il bambino 10 anni e suo cugino 16 anni.
- C) Il bambino 11 anni e suo cugino 26 anni.

31) Completare la sequenza: 6 - 12 - 14 ; 15 - 30 - 32 ; 33 - ... - ...

- A) 65 e 67.
- B) 67 e 69.
- C) 66 e 68.

32) La metà di quale numero, moltiplicata per 4 e aumentata di 22, è uguale a 78?

- A) 28
- B) 24
- C) 32

33) Completare la sequenza: 4 - 5 - 8 - 13 - 20 - 29 - ...

- A) 40.
- B) 39.
- C) 41.

34) Franco acquista 2 camicie per un totale di 135 euro, ne riporta una che costa 1/3 di quanto ha pagato e ne prende un'altra che costa 60 euro. Quanto deve dare di differenza?

- a) 12 euro
- b) 15 euro
- c) 25 euro

35) Individuare nelle file di numeri che vengono proposte al di sotto dei segni dati, quella che, utilizzando tutti i segni, dà come risultato il numero posto in parentesi: $x + - : x : =$ (12)

- a) 2 3 5 9 1 0 5
- b) 1 4 6 1 3 7 2
- c) 7 3 5 8 1 2 3

36) DETERMINARE X SAPENDO CHE SOTTRAENDO 5 DAL DOPPIO DI X SI OTTIENE 9

- a) 5
- b) 9
- c) 7

37) La metà di quale numero, aumentata di 5 e moltiplicata per 6, è uguale a 96?

- a) 20
- b) 22
- c) 24

38) Calcolare il 36% di 3600

- a) 1296
- b) 1514
- c) 1346

39) In una località di montagna, nella prima settimana di gennaio sono caduti, giorno per giorno, i seguenti cm di neve: 15, 12, 16, 9, 15, 9 e 15. In media, quanti cm di neve sono caduti al giorno?

- A) 10 cm
- B) 12 cm
- C) 13 cm

40) Un club di tennis è frequentato per il 60% da uomini e per il 40% da donne. Se il totale degli iscritti è 130, quante sono le donne che praticano il tennis?

- a) 40
- b) 50
- c) 52

41) Quando il Signor Rossi aveva 48 anni, suo figlio Romeo ne aveva 16. Quanti anni ha adesso Romeo, tenendo conto che la sua età è ora la metà di quella del padre?

- a) 34
- b) 32
- c) 31

42) Qual è quel numero il cui triplo diminuito di 18 è uguale al suo doppio diminuito di 6?

- A) 8
- B) 10
- C) 12

COMUNE DI VALLO DELLA LUCANIA – N. 7 POSTI PER PROFILI

PROFESSIONALI VARI DI ISTRUTTORE DI CATEGORIA C - PROVA PRESELETTIVA - VERSIONE B

- 43) Una lumaca deve scalare un muro alto 9 metri e percorrere nelle ore diurne esattamente 3 metri; tuttavia, dopo il tramonto del sole, il gasteropode cade in un sonno profondo durante il quale scivola insensibilmente verso il basso. Ogni mattina la lumaca si accorge di aver perso 2 metri rispetto all'altezza raggiunta il giorno precedente, e riprende la sua lenta ascensione. In quale giorno la lumaca riuscirà a raggiungere la sommità del muro?
 a) Decimo
 b) Settimo
 c) Nono
- 44) Inserire l'elemento giusto al posto dei puntini: 4, 16, 64, 256,
 a) 1024;
 b) 1034;
 c) 512.
- 45) Il signor Rossi compra un'automobile con il 10% di sconto sul prezzo di listino che è di 20.000 euro. Dopo due anni la vende ad un amico al 20% in meno di quanto l'aveva pagata. A quanto è stata venduta l'automobile all'amico?
 a) 13.000 euro
 b) 12.600 euro
 c) 14.400 euro
- 46) Se un fattorino consegna sei lettere in 30 minuti, quante lettere consegnerà in un'ora e venti minuti mantenendo lo stesso ritmo di lavoro?
 A) diciotto lettere
 B) sedici lettere
 C) quattordici lettere
- 47) Un pullman che è arrivato a Napoli alle ore 15 e 40 minuti, aveva un ritardo di 11 minuti. Quale doveva essere l'ora di arrivo?
 A) Le 14 e 29 minuti
 B) Le 15 e 39 minuti
 C) Le 15 e 29 minuti.
- 48) In fila al supermercato di un grande magazzino ci sono 432 persone e le casse aperte sono solo due. Calcolare quante persone sono in fila ad ogni cassa, sapendo che le persone in fila alla prima cassa sono il triplo di quelle presenti alla seconda.
 A) Le persone in fila alla prima cassa sono 324, quelle in fila alla seconda sono 108
 B) Le persone in fila alla prima cassa sono 300, quelle in fila alla seconda sono 132
 C) Le persone in fila alla prima cassa sono 320, quelle in fila alla seconda sono 132
- 49) La libreria del giornalista Paolo contiene 120 libri così suddivisi per materia: grammatica 20%; inglese 5%; illustrati 15%; esoterismo 25% e religione 35%. I libri di quali tipologie, tra loro sommati, sono 66?
 A) Quelli di grammatica e di inglese
 B) Quelli di grammatica e di religione
 C) Quelli di inglese e di illustrati
- 50) In uno scaffale ci sono 40 magliette, di cui 8 sono di colore blu. Qual è la percentuale delle magliette blu?
 a) 15%
 b) 30%
 c) 20%
- 51) Ai sensi dell'art. 114 della Costituzione, la Repubblica è costituita:
 A) dai Comuni, dalle Province, dalle Città metropolitane, dalle Regioni e dallo Stato.
 B) esclusivamente dai Comuni, dalle Regioni e dallo Stato.
 C) esclusivamente dai Comuni, dalle Comunità montane, dalle Province e dalle Regioni.
- 52) Secondo l'art. 114 della Costituzione le Regioni sono:
 A) Enti strumentali
 B) Enti non territoriali.
 C) Enti autonomi.
- 53) Secondo l'art. 116 della Costituzione, a singole Regioni a statuto ordinario possono essere attribuite ulteriori forme e condizioni particolari di autonomia:
 A) In materia di sicurezza dello Stato.
 B) Per quanto concerne le norme generali sull'istruzione.
 C) In qualsiasi materia prevista dallo statuto.
- 54) Secondo l'art. 119 della Costituzione, i Comuni hanno autonomia finanziaria?
 A) No
 B) Sì, soltanto di entrata.
 C) Sì, di entrata e di spesa.
- 55) Secondo la Costituzione, la Regione, può con sue leggi istituire nel proprio territorio nuovi Comuni?
 a) Sì, sentite le popolazioni interessate
 b) No, può solo modificare le loro denominazioni.
 c) Non è previsto nulla a riguardo
- 56) E' possibile disporre la fusione di Regioni esistenti?
 a) Sì, con legge costituzionale, sentiti i Consigli regionali
 b) No, mai. La Costituzione lo vieta espressamente all'art. 132
 c) Non è previsto nulla a riguardo
- 57) Ai sensi della legge n. 241/1990 il provvedimento amministrativo non deve necessariamente essere motivato:
 A) se adottato in condizioni di necessità e urgenza
 B) se si tratta di atti normativi o comunque a contenuto generale
 C) In ordine alle ragioni giuridiche, che hanno determinato la decisione dell'amministrazione, in relazione alle risultanze dell'istruttoria
- 58) A norma di quanto dispone l'art. 6 della legge 241/1990 chi valuta, ai fini istruttori, le condizioni di ammissibilità e i presupposti che siano rilevanti per l'emanazione di un provvedimento?
 A) In ogni caso il responsabile del provvedimento.
 B) Il responsabile del procedimento.
 C) L'organo di governo della P.A.
- 59) A norma della legge 7 agosto 1990, n. 241, in ogni atto notificato al destinatario devono essere indicati:
 A) Il termine e l'autorità cui è possibile ricorrere.
 B) L'autorità cui è possibile rivolgersi per conoscere la motivazione dell'atto.
 C) L'autorità cui è possibile rivolgersi per prendere visione dei documenti amministrativi.
- 60) Chi può revocare il provvedimento amministrativo ai sensi della Legge 241/90?
 a) L'organo che lo ha emanato ovvero da altro organo previsto dalla legge.
 b) Un organo specificamente istituito con legge.
 c) I soggetti nei confronti dei quali il provvedimento è destinato a produrre gli effetti
- 61) L'art. 21 septies della legge 7 agosto 1990, n. 241 dispone che è nullo il provvedimento amministrativo che manca:
 A) Degli elementi essenziali, che è viziato da difetto assoluto di attribuzione, che è stato adottato in violazione o elusione del giudicato, nonché negli altri casi espressamente previsti dalla legge.
 B) Solo degli elementi essenziali.
 C) Solo degli elementi essenziali o che è stato adottato in violazione o elusione del giudicato.
- 62) A seguito della domanda di accesso, l'amministrazione non può:
 a) Invitare il richiedente a presentare istanza formale, in caso di richiesta informale non immediatamente accoglibile.
 b) Mostrare un documento diverso da quello di cui si chiede l'accesso.
 c) Nessuna delle risposte è corretta

63) Il sindaco, quale ufficiale del Governo:

- A) sovrintende alla vigilanza su tutto quanto possa interessare la sicurezza e l'ordine pubblico, informandone preventivamente il Consiglio Comunale.
- B) partecipa con funzioni consultive, referenti e di assistenza alle riunioni del consiglio e della giunta.
- C) adotta con atto motivato provvedimenti, anche contingibili e urgenti nel rispetto dei principi generali dell'ordinamento, al fine di prevenire e di eliminare gravi pericoli che minacciano l'incolumità pubblica e la sicurezza urbana.

64) Che cosa è il PEG?

- a) È il Piano esecutivo di gestione, ovvero il documento che consente di definire gli obiettivi di gestione contenuti nel DUP e di assegnare le risorse necessarie
- b) È il Piano esecutivo di gestione, ovvero il documento che consente di definire le entrate che gli EE. LL. hanno a disposizione
- c) È il Piano esecutivo di gestione, ovvero il documento di raccordo tra quanto deliberato dall'organo esecutivo e consiliare di ciascun Ente

65) Ai sensi del D.Lgs. n. 267/2000, quali fra queste rientra nelle funzioni svolte dal Segretario Comunale?

- a) Partecipa con funzioni consultive, referenti e di assistenza alle riunioni del consiglio e della giunta e ne cura la verbalizzazione.
- b) Roga, su richiesta dell'ente, i contratti nei quali l'ente è parte e autentica scritture private ed atti unilaterali nell'interesse dell'ente.
- c) Entrambe le alternative sono corrette.

66) Un ministro di culto che ha giurisdizione e cura di anime può essere eletto alla carica di Sindaco nel territorio nel quale esercita il proprio ufficio?

- a) Sì, come tutti gli altri candidati;
- b) No, lo vieta espressamente il D.Lgs. n. 267/2000;
- c) Sì, ma non può ricoprire la carica di Presidente della Provincia.

67) Secondo il Tuel, la prima seduta del consiglio comunale:

- a) Deve essere convocata entro il termine perentorio di 10 giorni dalla proclamazione e deve tenersi entro il termine di 10 giorni dalla convocazione.
- b) Può essere convocata entro il termine di 15 giorni dalla proclamazione e deve tenersi entro il termine di 15 giorni dalla convocazione.
- c) Deve essere convocata entro il termine di 15 giorni dalla proclamazione e deve tenersi entro il termine di 15 giorni dalla convocazione.

68) Quali sono i servizi di competenza statale indicati all'art. 14 del Tuel?

- a) Elettorale, anagrafe, stato civile, statistica e leva militare.
- b) Elettorale, anagrafe, stato civile, polizia urbana e leva militare.
- c) Elettorale, assetto del territorio, stato civile, statistica e leva militare.

69) Le mansioni dei pubblici impiegati sono disciplinate dall'art. 52 del d.lgs. n. 165 del 2001, il quale dispone, tra l'altro, che:

- A) dal conferimento di mansioni superiori scaturisce il diritto all'erogazione permanente di un'indennità integrativa ulteriore
- B) nei casi di utilizzo del dipendente in mansioni superiori, per il periodo di effettiva prestazione, il lavoratore ha diritto al trattamento previsto per la qualifica superiore
- C) si considera svolgimento di mansioni superiori anche l'attribuzione non prevalente, sotto il profilo qualitativo, quantitativo e temporale, dei compiti propri di dette mansioni

70) Ai sensi del d.lgs. 165/2001, il trattamento fondamentale e accessorio dei dipendenti pubblici:

- A) è definito dai contratti collettivi
- B) è definito dalla legge di stabilità
- C) è definito dal Documento di economia e finanza

71) Secondo il d.lgs. n. 165/2001 in materia di pari opportunità, le Pubbliche Amministrazioni, tra l'altro:

- A) riservano alle donne, salva motivata impossibilità, almeno un terzo dei posti di componente delle commissioni di concorso
- B) non riservano alle donne alcuna percentuale nelle commissioni di concorso, al fine di non contravvenire alle disposizioni europee in materia di parità di genere
- C) riservano alle donne, salva motivata impossibilità, un numero di posti di componente delle commissioni di concorso in rapporto alla loro presenza nell'Amministrazione

72) Secondo le disposizioni del d.lgs. 165/2001, il dipendente pubblico può svolgere un'attività professionale esterna?

- A) Mai, per l'esclusività del rapporto di lavoro pubblico
- B) Sì, ma solo se l'attività esterna ha avuto inizio prima dell'assunzione nella Pubblica amministrazione
- C) Sì, se ha richiesto e ottenuto l'autorizzazione allo svolgimento dell'attività dall'Amministrazione di appartenenza

73) Il d.lgs. 165/2001 dispone che la legge 300/1970 (Statuto dei lavoratori) si applica alle Pubbliche Amministrazioni:

- A) se il numero dei dipendenti è superiore a 5
- B) a prescindere dal numero dei dipendenti
- C) solo se nell'ente sono presenti lavoratori appartenenti alle categorie protette

74) Ai sensi dell'art. 55 del d.lgs. n. 165 del 2001, per i dipendenti pubblici resta ferma:

- A) solo la disciplina vigente in materia di responsabilità contabile
- B) solo la disciplina vigente in materia di responsabilità penale e contabile
- C) la disciplina vigente in materia di responsabilità civile, amministrativa, penale e contabile

75) L'accesso civico:

- A) È contemplato nel D.Lgs. 50 del 2016.
- B) È contemplato nel D.Lgs. 165 del 2001.
- C) È contemplato nel D.Lgs. 33 del 14 marzo 2013.

76) Ai sensi del D.Lgs. 33/2013, i documenti contenenti atti oggetto di pubblicazione obbligatoria ai sensi della normativa vigente:

- A) Non sono pubblicati sul sito istituzionale dell'amministrazione.
- B) Sono pubblicati tempestivamente sul sito istituzionale dell'amministrazione.
- C) Sono pubblicati con cadenza semestrale sul sito istituzionale dell'amministrazione.

77) In base al D.Lgs. n. 33/2013 lo Stato, le regioni e gli enti locali pubblicano una serie di documenti ed informazioni, con riferimento a quali soggetti?

- A) Titolari di incarichi politici, anche se non di carattere elettivo, di livello statale regionale e locale.
- B) Titolari di incarichi politici di livello statale regionale e locale.
- C) Titolari di incarichi politici di livello comunitario.

78) Il dipendente pubblico che segnala un illecito sul luogo di lavoro, è definito:

- a) whistleblower
- b) wishbowler
- c) blowerwhistle

79) Secondo la l. 190/2012, chi individua il Responsabile della prevenzione della corruzione e della trasparenza?


- a) Il Dipartimento di trasparenza della funzione pubblica.
- b) L'organo di indirizzo.
- c) Nessuna delle risposte è corretta

80) L'ANAC:

- A) Riferisce al Senato sull'attività di contrasto della corruzione.
- B) Riferisce al Presidente del Consiglio dei Ministri sull'attività di contrasto della corruzione.
- C) Riferisce al Parlamento sull'attività di contrasto della corruzione.

PROVA Nov ESTIMADA

Red — Japão



COMUNE DI VALLO DELLA LUCANIA – N. 7 POSTI PER PROFILI
PROFESSIONALI VARI DI ISTRUTTORE DI CATEGORIA C – PROVA PRESELETTIVA - VERSIONE C

LEGGERE IL BRANO E RISPONDERE ALLE DOMANDE

Si ha merchandising allorché un marchio celebre, che abbia acquistato rinomanza sul mercato in relazione ad una determinata categoria di prodotti o servizi, venga concesso in uso a terzi per contraddistinguere prodotti di tutt'altro genere (es. utilizzazione del marchio "Champagne" per contraddistinguere una schiuma da bagno, ovvero il marchio "Cointreau" nel settore dell'abbigliamento). Nella pratica contrattuale, comunque, vengono comunemente riservati al concedente controlli rivolti ad impedire la collocazione sul mercato di prodotti di qualità scadente. Non esistendo una corrispondente produzione del concedente che possa essere utilizzata come parametro qualitativo, il marchio celebre, più che ad identificare i prodotti di un dato imprenditore, tende a diventare "il segno che contraddistingue il prestigio, lo stile e la capacità manageriale dell'imprenditore medesimo" Appare utile ricordare che vengono ricondotti al merchandising anche quei contratti con i quali il creatore di un personaggio di fantasia della letteratura, del cinema o dei fumetti concede – dietro corrispettivo – che quel personaggio, o l'immagine grafica che lo rappresenta, venga usato come marchio di prodotti altrui.

1) Cos'è il contratto di merchandising?

- a) Il contratto con cui un prodotto noto viene ceduto ad una altra azienda
- b) Un contratto avente l'obiettivo di favorire la diffusione di un marchio precedentemente poco noto
- c) Un contratto avente per oggetto un marchio molto conosciuto

2) Il concedente:

- a) Non ha facoltà di intervenire in merito alla destinazione del proprio marchio
- b) Può impedire che il proprio marchio venga associato a prodotti scadenti
- c) Non può permettere che il proprio marchio sia utilizzato per prodotti di diversa natura rispetto a quella originale

3) L'utilizzo di un marchio prestigioso:

- a) Consente di associare a determinati prodotti il prestigio dell'impresa che produce con il marchio in questione
- b) È indice dell'abilità dell'imprenditore che ottiene la possibilità di usarlo
- c) Può essere concesso a determinate categorie di imprenditori

4) Il contratto di merchandising:

- a) Può avere per oggetto l'utilizzo di un'immagine ma non di un personaggio della letteratura
- b) Può avere per oggetto l'utilizzo di un'immagine
- c) Può riferirsi solo a specifiche tipologie di servizi

5) Un personaggio cinematografico:

- a) Di fantasia può essere oggetto di un contratto di merchandising
- b) Può essere utilizzato da terzi, anche senza il consenso del creatore
- c) Nessuna delle risposte è corretta

6) Riordinare il dialogo secondo la logica sequenza temporale:

- 1) Allora dobbiamo festeggiare - 2) Se non ci credi te la mostro - 3) Va bene, ma guido io - 4) Ti hanno promosso davvero? - 5) Sì, ho fatto l'esame ieri - 6) Hai preso la patente?
- A) 6 - 5 - 4 - 2 - 1 - 3.
 - B) 6 - 2 - 1 - 4 - 5 - 3.
 - C) 6 - 1 - 4 - 2 - 3 - 5.

7) Tre stranieri (A, B, C) di nazionalità cinese, russa e indiana, non necessariamente in quest'ordine, sono in fila per ritirare i documenti per richiedere il permesso di soggiorno. L'indiano B è subito dietro a C; il cinese, primo, non si chiama A. Chi ritirerà per ultimo i documenti e di quale nazionalità è?

- A) A di nazionalità cinese.
- B) B di nazionalità russa.
- C) A di nazionalità russa.

8) Sei colleghi (U, V, Z, Y, X, J) siedono ad una tavola rettangolare, due da un lato, due dall'altro e due ai capitolavola. V è di fronte a X, Y è di fronte a J. Se né V, né J siedono a capitolavola, chi siede a capitolavola?

- A) U e Z.
- B) X e Z.
- C) Y e U.

9) Si considerino i seguenti ragionamenti:

- Enrico legge su una rivista scientifica che se si mangia cioccolato si affatica il fegato. Mario ha il fegato affaticato. Questo significa che ha mangiato cioccolato.
 - Enrico legge su una rivista scientifica che i carciofi, se cucinati al vapore, diventano scuri. Enrico va in cucina e vede che i suoi carciofi non sono scuri. Ciò significa che nessuno li ha cucinati al vapore.
- a) Il secondo è valido ma il primo non lo è
 - b) Entrambi i ragionamenti sono validi
 - c) Il primo è valido ma il secondo non lo è

10) INDIVIDUARE, TRA LE ALTERNATIVE DI RISPOSTA, QUELLA CHE CONTIENE IL SEGUENTE GRUPPO DI LETTERE: CDEFL.

- A) XXCXDXXXEXXXFXXXLXXXX;
- B) XCXXDXXXEXXXEXXXIXXX;
- C) XCXXDXLXLXXHXXXXXX.

11) Indicare, tra le seguenti sillabe, l'unica che preposta a "nico" e posposta a "leviga" forma due parole di senso compiuto.

- A) To
- B) Na
- C) So

12) Mettere tra parentesi la parola che assume un significato che può essere ricondotto per analogia sia al termine che precede che a quello che segue:

Segno ortografico (?) Estremità.

- A) Successo.
- B) Fine.
- C) Apice.

13) Se la parola NERINA viene scritta sotto a EBBENE, la parola TOPAIA viene scritta sotto a NERINA, la parola PRISMA viene scritta sotto a TOPAIA e la prima e l'ultima parola sono rispettivamente ACERBO e QUATTO, allora in diagonale si può leggere:

- A) ABRAMO.
- B) QUARTO.
- C) ARSERO.

14) Se l'espressione "Andare con le ali ai piedi" sta a "correre con grande velocità" allora l'espressione "Levare, togliere di testa qualcosa" sta a:

- A) Far ricredere su qualcosa, persuadere del contrario.
- B) Giungere nello stesso momento al traguardo.
- C) Contendersi la vittoria con le stesse probabilità.

15) Osservare attentamente le seguenti coppie di termini e indicare quella che non c'entra con le altre.


- a) aste - master;
- b) estro - maestro;
- c) oste - poster.

16) Arianna non dice il falso solo a Barbara, che solo a lei non dice il vero. Carlo dice il vero ma non a Barbara e Michele non dice il falso solo a Barbara. Se uno dei quattro dice all'altro "Mi piacciono i libri che scrivi", ciò è:

- A) Vero, se Arianna lo dice a Carlo o a Michele.
- B) Falso, se Barbara lo dice a Carlo o a Michele.
- C) Falso, se Michele lo dice a Carlo o ad Arianna.

17) SE PIETRO=6, ANTONIO=7, STEFANO=7, PIERFRANCESCO=?

- a) 13
- b) 12
- c) 11



COMUNE DI VALLO DELLA LUCANIA – N. 7 POSTI PER PROFILI
PROFESSIONALI VARI DI ISTRUTTORE DI CATEGORIA C – PROVA PRESELETTIVA - VERSIONE C

18) Indicare quali termini, tra le seguenti serie disposte Orizzontalmente, si avvicinano al significato di "ACCONDISCENDERE".

- A) Discesa Strada Corsa
- B) Incertezza Universale Mondiale
- C) Permettere Concedere Consentire

19) "Se Marta è in ufficio, allora Tiziana è a casa". Se l'argomentazione precedente è vera, quale delle seguenti è certamente vera?

- A) Marta e Tiziana non possono mai essere in ufficio insieme
- B) Se Marta non è in ufficio, allora Tiziana è a lavoro
- C) Se Tiziana non è a casa allora Marta non è in ufficio

20) Marco è figlio di Giuseppe; la sorella di Marco, Carla, ha una figlia di nome Elena, la quale ha un bambino di nome Lorenzo. Che rapporto di parentela c'è tra Giuseppe e Lorenzo?

- a) Bisnonno – Bisnipote
- b) Cugino – Cugino
- c) Nonno – Nipote

21) Cristiano è più lento di Federico, Jacopo va più veloce di Ettore, Cristiano va più veloce di Jacopo. Chi tra i seguenti è il più lento?

- A) Jacopo
- B) Federico
- C) Ettore

22) Se la sequenza è "minuscolo maiuscolo", quale riga è scritta in modo corretto?

- a) eFhPaZgHuTqQzAaShUpQ;
- b) pLgBnXaQeErRQfHyFSaoM;
- c) iQcGvOLpAzRtyWmBaRuXhL.

23) Di quante parole si compone la frase:

"Nonappenacisiamoalzatihainiziatoapiovereparecchio"

- a) Undici;
- b) Dieci;
- c) Otto.

24) In quale sequenza di lettere le "M" sono più numerose delle "U"?

- A) FMOMLFULUOLF.
- B) ZOMZMOFMUZOU.
- C) UAMLMAUMAULU.

25) Trovare la chiave che regge i seguenti abbinamenti: Se giostra = 8, farfalla = 9, luna = 5, puma = ?

- a) 4
- b) 7
- c) 5

26) DETERMINARE X SAPENDO CHE SOTTRAENDO 5 DAL DOPPIO DI X SI OTTIENE 9

- a) 7
- b) 5
- c) 9

27) DETERMINARE X SAPENDO CHE SOMMANDO 12 AL TRIPLO DI X SI OTTIENE 36

- a) 8
- b) 10
- c) 12

28) La metà di quale numero, moltiplicata per 4 e aumentata di 22, è uguale a 78?

- a) 24
- b) 34
- c) 28

29) Quale numero moltiplicato per 5 va sottratto a 4176 per ottenete 91?

- A) 864
- B) 894
- C) 817

30) Se un'azione di una determinata società vale € 1,60, con € 5.000,00, quante azioni si ottengono?

- A) 3125
- B) 1200
- C) 6500

31) Inserire l'elemento giusto al posto dei puntini.

- 121, 125, 133, 137,
- a) 141;
- b) 145;
- c) 136.

32) Quali dei numeri proposti integrano la serie?

- 4 - 8 - ... - 32 - 64 - ...
- A) 16 e 120
- B) 14 e 128.
- C) 16 e 128.

33) Giada ha 16 anni, suo fratello minore Renato ha 7 anni di differenza e la madre ha 43 anni. Che età avevano Giada e la madre quando è nato Renato?

- A) La madre 34 anni e Giada 9 anni.
- B) La madre 32 anni e Giada 7 anni.
- C) La madre 34 anni e Giada 7 anni.

34) Se una moto viaggia a 90 km/h, quanta strada percorre in 20 minuti?

- a) 15 Km
- b) 20 Km
- c) 30 Km

35) In un parco ci sono biciclette e tricicli, per un totale di 40 manubri e 100 ruote. Quante sono le biciclette ed i tricicli?

- A) Venti biciclette e venti tricicli.
- B) Sedici biciclette e dieci tricicli.
- C) Venticinque biciclette e otto tricicli.

36) Quanti euro ricavo dopo un anno se impegno un capitale di 2.500 euro al tasso del 8% annuo?

- a) 20
- b) 200
- c) 250

37) Due fratelli hanno complessivamente 96 anni e la differenza di età tra i due è 6 anni. Quanti anni hanno i due fratelli?

- a) 53 e 33.
- b) 52 e 44.
- c) 51 e 45.

38) Se un articolo costa 500,00 Euro e ottengo lo sconto del 20% quanto pago:

- a) 300 euro
- b) 350 euro
- c) 400 euro

39) Francesco cerca, con scarsi risultati, di vendere la sua vecchia motocicletta sul mercato dell'usato al prezzo di 4.000 euro. Non trovando acquirenti, ogni mese propone uno sconto aggiuntivo del 20%. Quale sarà il prezzo di vendita della motocicletta dopo 2 mesi?

- a) 2.560 euro
- b) 2.400 euro
- c) 2.880 euro

40) Qual è stata la percentuale di sconto se una chitarra che costava 75 euro viene venduta a 51 euro?

- A) 24%
- B) 64%
- C) 32%

41) Quante ore ci sono in 10 giorni e mezzo?

- A) 250.
- B) 252.
- C) 254.

COMUNE DI VALLO DELLA LUCANIA – N. 7 POSTI PER PROFILI
PROFESSIONALI VARI DI ISTRUTTORE DI CATEGORIA C – PROVA PRESELETTIVA - VERSIONE C

42) Individuare nelle file di numeri che vengono proposte al di sotto dei segni dati, quella che, utilizzando tutti i segni, dà come risultato il numero posto in parentesi: $x + - x x :$
= (19)

- a) 8 1 6 5 3 6 1;
- b) 2 9 7 6 2 4 8;
- c) 1 3 6 1 3 7 4.

43) Le automobili straniere importate in Italia nel 2020 sono state 350.000. Di queste il 30% era giapponese. Quante sono state le auto straniere non giapponesi importate quell'anno?

- A) 105.000
- B) 245.000
- C) 205.000

44) Gino ha 3 anni meno di Paolo. Paolo ha 2 anni più di Pietro. Se Gino ha 18 anni, quanti anni ha Pietro?

- A) 19
- B) 21
- C) 22

45) Maria è alta 172 cm, Ida 175 cm, Valeria 166 cm. Quale è l'altezza media delle tre ragazze?

- a) 171 cm
- b) 170 cm
- c) 169 cm

46) Calcolare il 36% di 3600

- a) 1296
- b) 1514
- c) 1346

47) In una località di montagna, nella prima settimana di gennaio sono caduti, giorno per giorno, i seguenti cm di neve: 15, 12, 16, 9, 15, 9 e 15. In media, quanti cm di neve sono caduti al giorno?

- A) 10 cm
- B) 12 cm
- C) 13 cm

48) In fila al supermercato di un grande magazzino ci sono 432 persone e le casse aperte sono solo due. Calcolare quante persone sono in fila ad ogni cassa, sapendo che le persone in fila alla prima cassa sono il triplo di quelle presenti alla seconda.

- A) Le persone in fila alla prima cassa sono 324, quelle in fila alla seconda sono 108
- B) Le persone in fila alla prima cassa sono 300, quelle in fila alla seconda sono 132
- C) Le persone in fila alla prima classe sono 320, quelle in fila alla seconda sono 132

49) La libreria del giornalista Paolo contiene 120 libri così suddivisi per materia: grammatica 20%; inglese 5%; illustrati 15%; esoterismo 25% e religione 35%. I libri di quali tipologie, tra loro sommati, sono 66?

- A) Quelli di grammatica e di inglese
- B) Quelli di grammatica e di religione
- C) Quelli di inglese e di illustrati

50) In uno scaffale ci sono 40 magliette, di cui 8 sono di colore blu. Qual è la percentuale delle magliette blu?

- a) 15%
- b) 30%
- c) 20%

51) Secondo l'art. 114 della Costituzione, quali sono gli enti autonomi della Repubblica?

- a) I Comuni, le Province e le Regioni.
- b) I Comuni, le Province, le Città metropolitane e le Regioni.
- c) I Comuni, le Unioni di Comuni, le Province, le Città metropolitane e le Regioni.

52) Secondo l'art. 119 della Costituzione, le Regioni hanno autonomia finanziaria?

- a) No
- b) Sì, soltanto di entrata.
- c) Sì, di entrata e di spesa.

53) Ai sensi dell'art. 117 della Costituzione, quale tra le seguenti è una materia su cui lo Stato ha legislazione esclusiva?

- A) Commercio con l'estero.
- B) Immigrazione.
- C) Ricerca scientifica e tecnologica.

54) A norma dell'art. 119 della Costituzione, I Comuni, le Province, le Città metropolitane e le Regioni:

- A) hanno risorse autonome
- B) non hanno risorse autonome
- C) non possono stabilire ed applicare tributi ed entrate proprie

55) La Regione può istituire dazi di importazione o esportazione o transito tra le Regioni?

- A) Sì
- B) No
- C) Non è previsto nulla a riguardo

56) Il Governo, quando ritenga che una legge regionale ecceda la competenza della Regione, può promuovere la questione di legittimità costituzionale:

- a) dinanzi alla Consiglio di Stato
- b) dinanzi alla Corte Costituzionale
- c) dinanzi alla Corte di Cassazione

57) Ai sensi della Legge 241/1990, la richiesta di accesso ai documenti amministrativi s'intende respinta decorsi:

- A) Inutilmente trenta giorni dalla richiesta stessa.
- B) Inutilmente dieci giorni dalla richiesta stessa.
- C) Inutilmente tre mesi dalla richiesta stessa.

58) Il diritto di accesso può essere esercitato nei confronti dei gestori di pubblici servizi?

- A) Sì.
- B) No, si esercita solo nei confronti delle pubbliche amministrazioni.
- C) Sì, ma solo nel caso di gestori di servizi pubblici essenziali.

59) La legge n. 241/1990 ammette il recesso unilaterale dai contratti della p.a.?

- a) No
- b) Sì, nei soli casi ammessi dal contratto.
- c) Sì, nei casi previsti dalla legge e dal contratto.

60) La revoca del provvedimento amministrativo può avvenire:

- A) per violazione di legge
- B) per sopravvenuti motivi di pubblico interesse
- C) per eccesso di potere

61) A norma dell'art. 6 della legge 7 agosto 1990, n. 241, tra le attribuzioni del responsabile del procedimento rientrano:

- A) La cura delle comunicazioni, delle pubblicazioni e delle notificazioni previste dalla legge.
- B) La determinazione del termine entro cui il procedimento deve chiudersi.
- C) La determinazione delle modalità di accesso ai documenti amministrativi.

62) Il procedimento amministrativo si apre:


- A) Con iniziativa ad istanza di parte o d'ufficio.
- B) Solo con iniziativa d'ufficio.
- C) Solo ad istanza di parte.

63) Ai sensi dell'art. 42, comma 1, del TUEL:

- a) Il Sindaco è l'organo di indirizzo e di controllo politico-amministrativo.
- b) La Giunta è l'organo di indirizzo e di controllo politico-amministrativo.
- c) Il Consiglio è l'organo di indirizzo e di controllo politico-amministrativo.

64) Quale organo dell'amministrazione comunale, in caso di emergenze sanitarie o di igiene pubblica a carattere esclusivamente locale, può emanare ordinanze contingibili e urgenti?

- A) Presidente del Consiglio.
- B) Sindaco-capo dell'amministrazione.
- C) Ufficio di gabinetto del Sindaco.



COMUNE DI VALLO DELLA LUCANIA – N. 7 POSTI PER PROFILI
PROFESSIONALI VARI DI ISTRUTTORE DI CATEGORIA C – PROVA PRESELETTIVA - VERSIONE C

65) Ai sensi dell'art. 46, comma 1, del TUEL e s.m.i., il sindaco:

- a) È eletto dalla Giunta Comunale.
- b) È eletto dai cittadini a suffragio universale.
- c) È eletto dai consiglieri su parere del consigliere anziano.

66) L'art. 43 del Tuel riconosce ai consiglieri dell'amministrazione comunale alcuni diritti. Essi: 1) non hanno il diritto di presentare mozioni; 2) hanno solo il diritto di presentare interrogazioni. È/sono corrette:

- a) Nessuna delle affermazioni.
- b) Solo l'affermazione contenuta al punto 1).
- c) Tutte delle affermazioni.

67) A norma di quanto dispone l'art. 52 del D.Lgs. n. 267/2000 è corretto affermare che il voto del consiglio comunale contrario ad una proposta del Sindaco o della giunta comporta per gli stessi l'obbligo di dimettersi?

- a) Sì
- b) Comporta solo le dimissioni del Presidente della Giunta
- c) No

68) Indicare quale tra le seguenti è una competenza della Giunta comunale, a norma di quanto disposto dal Tuel:

- a) La Giunta comunale approva i bilanci annuali e i conti consuntivi
- b) La Giunta comunale collabora con il Sindaco nell'attuazione degli indirizzi generali del Consiglio.
- c) La Giunta comunale elegge il Sindaco

69) A norma del D.Lgs 165/01, cosa necessita alle Pubbliche Amministrazioni per il conferimento di incarichi retribuiti a dipendenti di altre amministrazioni pubbliche?

- A) L'autorizzazione preventiva dell'amministrazione di appartenenza dei dipendenti stessi, a pena di nullità del provvedimento.
- B) La sola accettazione scritta del dipendente allo svolgimento dell'incarico.
- C) L'autorizzazione dell'amministrazione procedente, solo per gli enti pubblici economici.

70) Secondo il d.lgs. 165/2001, le Pubbliche Amministrazioni:

- A) non possono impiegare lavoratori socialmente utili
- B) possono impiegare anche lavoratori socialmente utili
- C) possono impiegare anche lavoratori socialmente utili, ma solo nell'espletamento di servizi alla persona

71) Dispone il d.lgs. n. 165/2001 che le graduatorie dei concorsi per il reclutamento del personale presso le Amministrazioni Pubbliche rimangono vigenti:

- A) per un termine di dieci anni dalla data di pubblicazione, salvo disposizioni normative specifiche
- B) per un termine di due anni dalla data di pubblicazione, aumentabili a tre tramite il contratto collettivo integrativo
- C) per un termine di tre anni dalla data di pubblicazione, salvo disposizioni normative specifiche

72) Quale tra questi soggetti, secondo il D.Lgs. 165/2001, verifica periodicamente gli andamenti della spesa per il personale delle Pubbliche Amministrazioni?

- A) Il Consiglio di Stato.
- B) La Corte dei Conti.
- C) L'Agenzia delle Entrate.

73) Secondo il d.lgs. 165/2001, l'assunzione presso le Amministrazioni Pubbliche:

- A) è sempre soggetta alla condizione sospensiva dell'autorizzazione del ministero di competenza dell'ente che assume
- B) non è soggetta a formalità
- C) avviene con contratto individuale di lavoro

74) Secondo quanto previsto dal D.Lgs. 165/2001, a quale dei seguenti criteri le Pubbliche Amministrazioni NON ispirano la loro organizzazione?

- A) Ampia rigidità, annullando possibili margini alle determinazioni operative e gestionali da assumere.
- B) Garanzia dell'imparzialità e della trasparenza dell'azione amministrativa.
- C) Funzionalità rispetto ai compiti e ai programmi di attività, nel perseguimento degli obiettivi di efficienza, efficacia ed economicità.

75) Ai sensi del d. lgs. 33/2013, la disciplina prevista per le pubbliche amministrazioni si applica anche, in quanto compatibile:

- A) agli enti pubblici economici e agli ordini professionali.
- B) solamente agli enti pubblici economici.
- C) solamente agli ordinamenti professionali.

76) Ai sensi del d. lgs. 33/2013, il rilascio di dati o documenti in formato elettronico o cartaceo:

- a) è gratuito, salvo il rimborso del costo effettivamente sostenuto e documentato dall'amministrazione per la riproduzione su supporti materiali.
- b) è sempre gratuito.
- c) è sempre soggetto all'imposta di bollo

77) Ai sensi dell'art. 5 del d.lgs. 33/2013:

- A) chiunque ha diritto di accedere ai dati e ai documenti detenuti dalle pubbliche amministrazioni anche non oggetto di obbligo di pubblicazione, nel rispetto dei limiti relativi alla tutela di interessi giuridicamente rilevanti
- B) Il soggetto titolare di un interesse giuridicamente rilevante ha diritto di accedere ai dati e ai documenti detenuti dalle pubbliche amministrazioni purché oggetto di obbligo di pubblicazione
- C) nessuna risposta è corretta

78) Chi approva il piano nazionale anticorruzione?

- a) La Funzione pubblica
- b) Il Ministero degli Interni
- c) L'ANAC

79) Secondo la L. 190/2012, può ogni singola amministrazione, adottare un proprio codice di comportamento?

- a) Sì.
- b) Sì, ma entro i limiti previsti dalla legge 33 del 2001.
- c) Solo in base alle linee guida dettate dal Ministero di riferimento.

80) Al fine di prevenire la commissione di reati di corruzione, secondo il dettato della L. 190/2012, su quali temi è improntata la formazione dei dipendenti pubblici?

- a) Correttezza e trasparenza.
- b) Etica e legalità.
- c) nessuna risposta è corretta

COMUNE DI VALLO DELLA LUCANIA - CONCORSO DI N. 7 (SETTE) POSTI PER PROFILI PROFESSIONALI VARI DI ISTRUTTORE DI CATEGORIA C POSIZIONE ECONOMICA INIZIALE C1 - PROVA PRESELETTIVA DEL 02/04/2021- ESITO - GRADUATORIA NOMINATIVA GENERALE

N.	Codice	Cognome	Nome	Data di nascita	Punteggio
1	30094	De Luca	Gennaro	omissis	76,34
2	30177	Guida	Maria Cristina	omissis	76,01
3	30011	Ametrano	Stefania	omissis	76,01
4	30090	Loi	Alessandra	omissis	70,01
5	30180	Rosalia	Bernardo	omissis	69,68
6	30165	Iuliano	Orazio Ciro	omissis	69,35
7	26496	Melone	Federica	omissis	69,35
8	30116	Proccenzano	Luca	omissis	67,69
9	30217	Rinaldi	Luca	omissis	67,68
10	30108	Paolino	Carola	omissis	66,02
11	30039	Maiese	Francesco	omissis	66,02
12	26494	Maiese	Aniello	omissis	65,37
13	30198	Scalone	Fortunato	omissis	65,02
14	30136	Voria	Massimo	omissis	63,04
15	30089	Maiese	Raffaele	omissis	62,71
16	30174	Galzerano	Angelo	omissis	62,69
17	30009	Cicccone	Armando	omissis	61,34
18	30066	Nicoletti	Alfredo	omissis	60,35
19	30079	Caputo	Nunziatina	omissis	60,01
20	30082	Ametrano	Veronica	omissis	59,70
21	30091	Maffia	Alessandro	omissis	59,70
22	30130	Feola	Achille	omissis	59,69
23	30168	Greco	Valentina	omissis	59,37
24	30037	Mautone	Marcello	omissis	59,36
25	30215	Viterale	Antonio	omissis	59,34
26	30098	De Marco	Italo	omissis	59,03
27	30129	Guida	Aniello	omissis	58,72
28	30156	Pisani	Giancairo	omissis	58,03
29	30093	Di Nardo	Aniello	omissis	57,36
30	30042	Melone	Adele	omissis	57,36
31	30206	Sansone	Vincenza	omissis	56,68
32	30114	Pastore	Michele	omissis	56,37
33	30164	Erbace	Francesca	omissis	56,06
34	30115	Pucciarelli	Anna	omissis	56,02
35	30041	Mainente	Rossella	omissis	N.A.
36	26493	Oricchio	Raffaella	omissis	N.A.
37	30109	Pisano	Valentina	omissis	N.A.
38	30126	Farao	Riccardo	omissis	N.A.
39	30211	Sacco	Vincenzo	omissis	N.A.
40	30069	Montuori	Giuseppe	omissis	N.A.
41	30207	Santoro	Teresa	omissis	N.A.
42	30065	Noce	Mario	omissis	N.A.
43	30075	Bottiglieri	Barbara	omissis	N.A.
44	30210	Rienzo	Michele	omissis	N.A.
45	30161	Erbace	Monica	omissis	N.A.
46	30179	Polito	Gaspere Andrea	omissis	N.A.
47	30081	Cammarota	Pasquale	omissis	N.A.
48	30036	Liguori	Eugenio	omissis	N.A.
49	30178	Palma	Antonio	omissis	N.A.
50	30076	Belliazzi	Vittorio	omissis	N.A.
51	30200	Verdevalle	Silvio	omissis	N.A.
52	30103	D'Angelo	Domenico	omissis	N.A.
53	30100	Di Mauro	Caterina	omissis	N.A.
54	30124	Landi	Immacolata	omissis	N.A.
55	30111	Passaro	Carmen	omissis	N.A.
56	30086	Carro	Adriano	omissis	N.A.

**COMUNE DI VALLO DELLA LUCANIA - CONCORSO DI N. 7 (SETTE) POSTI PER
PROFILI PROFESSIONALI VARI DI ISTRUTTORE DI CATEGORIA C POSIZIONE ECONOMICA
INIZIALE C1 - PROVA PRESELETTIVA DEL 02/04/2021- ESITO - GRADUATORIA
NOMINATIVA GENERALE**

N.	Codice	Cognome	Nome	Data di nascita	Punteggio
57	30134	Sica	Elianna	omissis	N.A.
58	30137	Vitiello	Marina	omissis	N.A.
59	30170	Epifania	Elisa	omissis	N.A.
60	30212	Russo	Marco	omissis	N.A.
61	30044	Oricchio	Gianluigi	omissis	N.A.
62	30012	Barretta	Rosa	omissis	N.A.
63	30201	Valiante	Cristina	omissis	N.A.
64	30110	Parisi	Francesco	omissis	N.A.
65	30160	D'Oria	Alain	omissis	N.A.
66	30105	Di Spirito	Dario	omissis	N.A.
67	30099	Di Santi	Concetta	omissis	N.A.
68	30139	Sansone	Fabio	omissis	N.A.
69	30112	Positano	Adolfo	omissis	N.A.
70	30199	Renzi	Luca	omissis	N.A.
71	30208	Falcione	Gabriele	omissis	N.A.
72	30214	Rocco	Gabriella	omissis	N.A.
73	30008	Comunale	Maria	omissis	N.A.
74	30140	Zito	Giampiero	omissis	N.A.
75	30005	Crocamo	Raffaella	omissis	N.A.
76	30073	Cortese	Vittoria	omissis	N.A.
77	30213	Sansone	Nicola	omissis	N.A.
78	30133	Veneri	Giovanni	omissis	N.A.
79	30175	Giannattasio	Nunzio	omissis	N.A.
80	30102	Di Sevo	Carmine	omissis	N.A.
81	30107	Palladino	Roberto	omissis	N.A.
82	30074	Barberini Rodio	Paola	omissis	N.A.
83	30166	Guariglia	Clorinda	omissis	N.A.
84	30010	Canale	Alfonso Maria	omissis	N.A.
85	30132	Viviano	Albina	omissis	N.A.
86	30125	Iacovazzo	Ludovica	omissis	N.A.
87	30095	D'Ambrosio	Milena	omissis	N.A.
88	30006	Cusati	Domenico	omissis	N.A.
89	30101	De Laurentiis	Annunziata	omissis	N.A.
90	30205	Viviano	Martina	omissis	N.A.
91	30138	Ruocco	Cataldo	omissis	N.A.
92	30209	Sacco	Roberto	omissis	N.A.
93	30163	Guida	Giovanna	omissis	N.A.
94	30092	Lettieri	Manuela	omissis	N.A.
95	30173	Fiorillo	Andrea	omissis	N.A.
96	30202	Sansone	Carmine	omissis	N.A.
97	30171	Iannuzzi	Federica	omissis	N.A.
98	30083	Cantalupo	Mariarosaria	omissis	N.A.
99	30135	Scola	Elide	omissis	N.A.
100	30003	Chirico	Ester	omissis	N.A.
101	30162	Infante	Gennaro	omissis	N.A.
102	30007	Cerbone	Espedito	omissis	N.A.
103	30004	Correale	Annalisa	omissis	N.A.
104	30113	Passaro	Antonio	omissis	N.A.
105	30204	Tacelli	Pasquale	omissis	N.A.
106	30038	Musto	Alessia	omissis	N.A.
107	30158	Pifferi	Angela	omissis	N.A.
108	30085	Barbato	Domenico	omissis	N.A.
109	30104	Di Pizzo	Angelo	omissis	N.A.
110	30043	Musto	Maria	omissis	N.A.
111	30080	Bertolini	Giuseppe	omissis	N.A.
112	30078	D'Alessandro	Ludovico	omissis	N.A.
113	30088	Mainenti	Giuseppe	omissis	N.A.

COMUNE DI VALLO DELLA LUCANIA - CONCORSO DI N. 7 (SETTE) POSTI PER PROFILI PROFESSIONALI VARI DI ISTRUTTORE DI CATEGORIA C POSIZIONE ECONOMICA INIZIALE C1 - PROVA PRESELETTIVA DEL 02/04/2021- ESITO - GRADUATORIA NOMINATIVA GENERALE

N.	Codice	Cognome	Nome	Data di nascita	Punteggio
114	30097	De Vita	Federica	omissis	N.A.
115	30155	Farzati	Simona	omissis	N.A.
116	26495	Meola	Giuseppe	omissis	N.A.
117	30216	Tripodi	Barbara	omissis	N.A.
118	30167	Lenza	Rosina	omissis	N.A.
119	30128	Ferrara	Ernesto	omissis	N.A.
120	30087	Mautone	Luigi	omissis	N.A.
121	30077	Angelino	Luigi	omissis	N.A.
122	30040	Maiese	Luigi	omissis	N.A.
123	30096	De Dura	Francesco	omissis	N.A.
124	30084	Capezzuto	Mariano	omissis	N.A.
125	30002	Cavallo	Delia	omissis	N.A.
126	30159	Paucera	Luigi	omissis	N.A.
127	30176	Donnianni	Iolanda	omissis	N.A.
128	30106	Di Lucia	Giuseppe	omissis	N.A.
129	30067	Nicoletti	Carmen	omissis	N.A.
130	30013	Belliazzi	Alessandro	omissis	N.A.
131	30172	Incognito	Ramona	omissis	N.A.
132	30068	Mazziotti	Isabella	omissis	N.A.
133	26497	Oricchio	Barbara	omissis	N.A.
134	30127	Lepre	Gerardo	omissis	N.A.
135	30203	Russo	Pantaleo	omissis	N.A.
136	30169	Donato	Gianluca	omissis	N.A.
137	30131	Veneruso	Domenico	omissis	N.A.

N.A.	=	NON AMMESSO ALLE FASI SUCCESSIVE PER MANCATO RAGGIUNGIMENTO DEL PUNTEGGIO MINIMO DI 56 SU 80
------	---	---

DATA DI NASCITA OMESSA NEL RISPETTO DELLA NORMATIVA SULLA PROTEZIONE DEI DATI PERSONALI.

CHIUNQUE, SE INTERESSATO, PUÒ RICHIEDERE L'ACCESSO AGLI ATTI CONCORSUALI NEL RISPETTO DELLA NORMATIVA SULL'ACCESSO DOCUMENTALE (L. 241/90 E S.M. E I.) E SULL'ACCESSO CIVICO (D. LGS. n. 33/2013 E S.M. E I.) E FATTO SALVO IL DIRITTO ALLA PROTEZIONE DEI DATI PERSONALI (GDPR 2016/679)

SI AVVISA CHE L'ABBINAMENTO DEI 34 CANDIDATI CHE HANNO SUPERATO LA PROVA PRESELETTIVA AI PROFILI PER CUI HANNO PRESENTATO DOMANDA, PER LA VERIFICA DEL PASSAGGIO ALLA PROVA SCRITTA, SARÀ EFFETTUATO NEI PROSSIMI GIORNI E PUBBLICATO A STRETTO GIRO NELLE SEZIONI CONSUETE DEL SITO

PASSA ALLA PROVA SCRITTA UN NUMERO DI CANDIDATI PARI A 20 VOLTE IL NUMERO DEI POSTI MESSI A CONCORSO PER CIASCUN PROFILO, OLTRE AI CANDIDATI ESENTATI DALLA PROVA PRESELETTIVA AI SENSI DELL'ART. 20 COMMA 2 BIS DELLA L. 104/92 E S.M. E I.

Dati Identificativi del Candidato									Voto prova preselettiva	Posizione in graduatoria per ogni profilo a concorso					Profili per candidato
N.	N. prot. IAMM	N. prot. IAMT	N. prot. ITG	N. prot. ICR	N. prot. EICT	Cognome	Nome	Data di nascita		IAMM	IAMT	ITG	ICR	EICT	
1	2451/2148					De Luca	Gennaro	omissis	76,34	1°				1	
2	2219	2218				Ametrano	Stefania	omissis	76,01	2°	1°			2	
3	2948					Guida	Maria Cristina	omissis	76,01	3°				1	
4	3044					Loi	Alessandra	omissis	70,01	4°				1	
5			3118			Rosalia	Bernardo	omissis	69,68			1°		1	
6	3063					Iuliano	Orazio Ciro	omissis	69,35	5°				1	
7	2866	2867				Melone	Federica	omissis	69,35	6°	2°			2	
8	3097					Proczano	Luca	omissis	67,69	7°				1	
9	1841			1842		Rinaldi	Luca	omissis	67,68	8°			1°	2	
10	2702	2707		2730		Maiese	Francesco	omissis	66,02	9°	3°		2°	3	
11	2841	2842	2843			Paolino	Carola	omissis	66,02	10°	4°	2°		3	
12			3060			Maiese	Aniello	omissis	65,02			3°		1	
13	2613	2615		2611	2608	Scalone	Fortunato	omissis	65,02	11°	5°		3°	1°	4
14			2574/3031			Voria	Massimo	omissis	63,04			4°		1	
15					2989	Maiese	Raffaele	omissis	62,71					2°	1
16	2974	2976				Galzerano	Angelo	omissis	62,69	12°	6°			2	
17	2846		2847			Ciccone	Armando	omissis	61,34	13°		5°		2	
18	1789	1788		1787		Nicoletti	Alfredo	omissis	60,35	14°	7°		4°	3	
19	2448	2450		2449		Caputo	Nunziatina	omissis	60,01	15°	8°		5°	3	
20	2977	2979				Ametrano	Veronica	omissis	59,70	16°	9°			2	
21			923			Maffia	Alessandro	omissis	59,70			6°		1	
22			3056			Feola	Achille	omissis	59,69			7°		1	
23			3065			Greco	Valentina	omissis	59,37			8°		1	
24	794	573				Mautone	Marcello	omissis	59,36	17°	10°			2	
25	3050	3051				Viterale	Antonio	omissis	59,34	18°	11°			2	
26			1840			De Marco	Italo	omissis	59,03			9°		1	
27			3049			Guida	Aniello	omissis	58,72			10°		1	
28			2675			Pisani	Giancairo	omissis	58,03			11°		1	
29	2864	2863				Di Nardo	Aniello	omissis	57,36	19°	12°			2	
30	2869	2868				Melone	Adele	omissis	57,36	20°	13°			2	
31	2565					Sansone	Vincenza	omissis	56,68	21°				1	
32	2074/175			2077/174	2075/179	Pastore	Michele	omissis	56,37	22°			6°	3°	3
33	2520	2521				Erbace	Francesca	omissis	56,06	23°	14°			2	
34		2826		2825		Pucciarelli	Anna	omissis	56,02		15°		7°	2	
									Totali	23	15	11	7	3	59

Legenda:



= ESCLUSI